

ゲーム・プリント集



も く じ

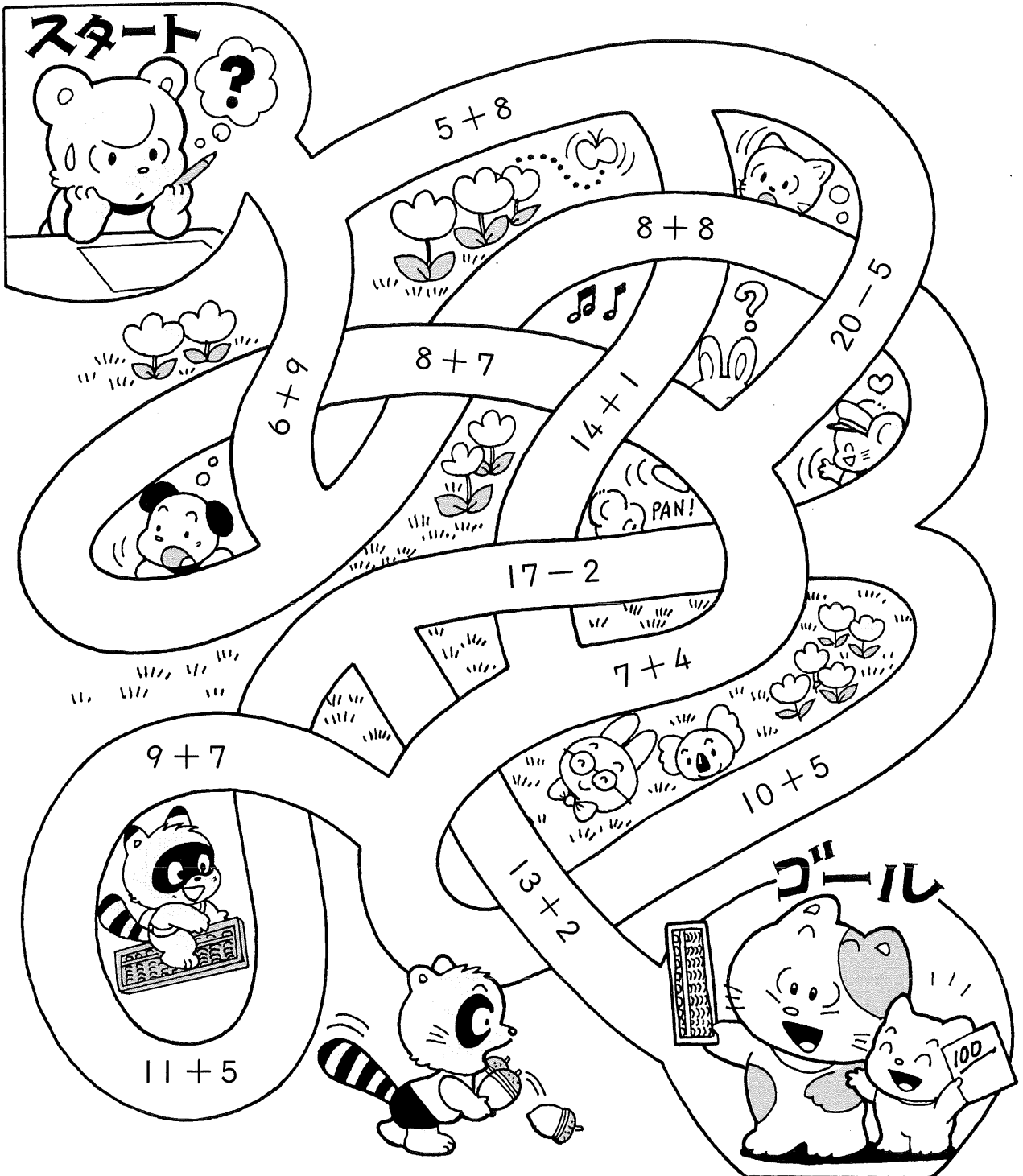
計算めいろ(1)~(4).....	3	暗号お絵かき(1)~(6).....	63
つぎつぎ計算(1)(2).....	7	たし算パズル.....	69
はんぶん お絵かきゲーム(1)~(6).....	9	かくれた文字をあてよう.....	70
組み合わせをあてよう(1)(2).....	15	1から49までレッツゴー！.....	71
おなじ組み合わせを見つけよう.....	17	記号をみつけよう(1)(2).....	72
わたしを さがして.....	18	うまく組み合わせよう.....	74
絵文字クイズ.....	19	正方形にしよう.....	75
でんわを かけよう.....	20	正三角形にしよう.....	76
かくれんぼクイズ.....	21	クロス計算(1)~(4).....	77
なにが たりないかな(1)~(4).....	22	箱の数をあてよう(1)(2).....	81
おばけを さがそう.....	26	円わりパズル.....	83
サッカーボールをさがせ！.....	27	ことばのクロスワードパズル.....	84
何びき いるのかな？.....	28	トランプカード 数あわせ.....	85
サイコロクイズ(1)(2).....	29	ゲタさがしゲーム.....	86
町内野球チーム.....	31	図形あそび.....	87
そろばん・あんざん めいろ.....	32	かくれた すうじ さがし.....	88
しりとり めいろ(1)(2).....	33	つなぎ合わせクイズ.....	89
バイクでGOGO.....	35	タイルのパズル.....	90
記号でよもう.....	36	旗の面積あてクイズ.....	91
絵クロスワードパズル(1)~(4).....	37	パネルの面積は？.....	92
3文字クロスワード.....	41	3色のペンキ.....	93
プラスでチャレンジ.....	42	6つに分けよう.....	94
公倍数 お絵かき.....	43	計算アミダ(1)~(8).....	95
計算クイズ.....	44	迷路にチャレンジ！(1)~(8).....	103
星座つなぎパズル.....	45	どこに いるのかな？(1)~(10).....	119
一筆で書けるかな？.....	46	わかるかな？(1)~(5).....	129
マッチぼうパズル.....	47	かんじぎりクイズ.....	134
数字のカード.....	48	漢字ぬり絵.....	135
ならべて見よう.....	49	かん字あわせクイズ.....	136
計算サッカーゲーム.....	50	漢字ミニしりとり.....	137
計算ゴルフゲーム.....	51	ばらばら 漢字.....	138
100からスタート(1)(2).....	52	うき出し文字クイズ.....	139
大きな数からスタート.....	54	漢字分かつパズル.....	140
正方形はいくつ.....	55	ぬり絵.....	141
九九 お絵かき.....	56	クイズのこたえ.....	154
まちがいさがし(1)~(6).....	57		



けい さん

計算めいろ (1)

こたえが〔15〕になる正しい道をえらんで、
ゴールまで行きましょう。





けいさん
計算めいろ (3)

「ヤッホー」さあ、元気にスタート！
計算の正しい道をえらんで、ゴールまで行き
ましょう。

スタート

5 × 2 = 10

6 + 3 = 18

8 × 4 = 33

2 + 9 = 16

7 × 3 = 20

4 × 7 = 28

6 × 4 = 23

3 × 8 = 24

4 × 8 = 32

3 × 5 = 15

4 × 3 = 11

5 × 6 = 32


ゴール



けいさん

計算めいろ (4)



こたえが〔7〕になる正しい道をえらんで、ゴールまで行きましょう。





はんぶん お絵かきゲーム (1)

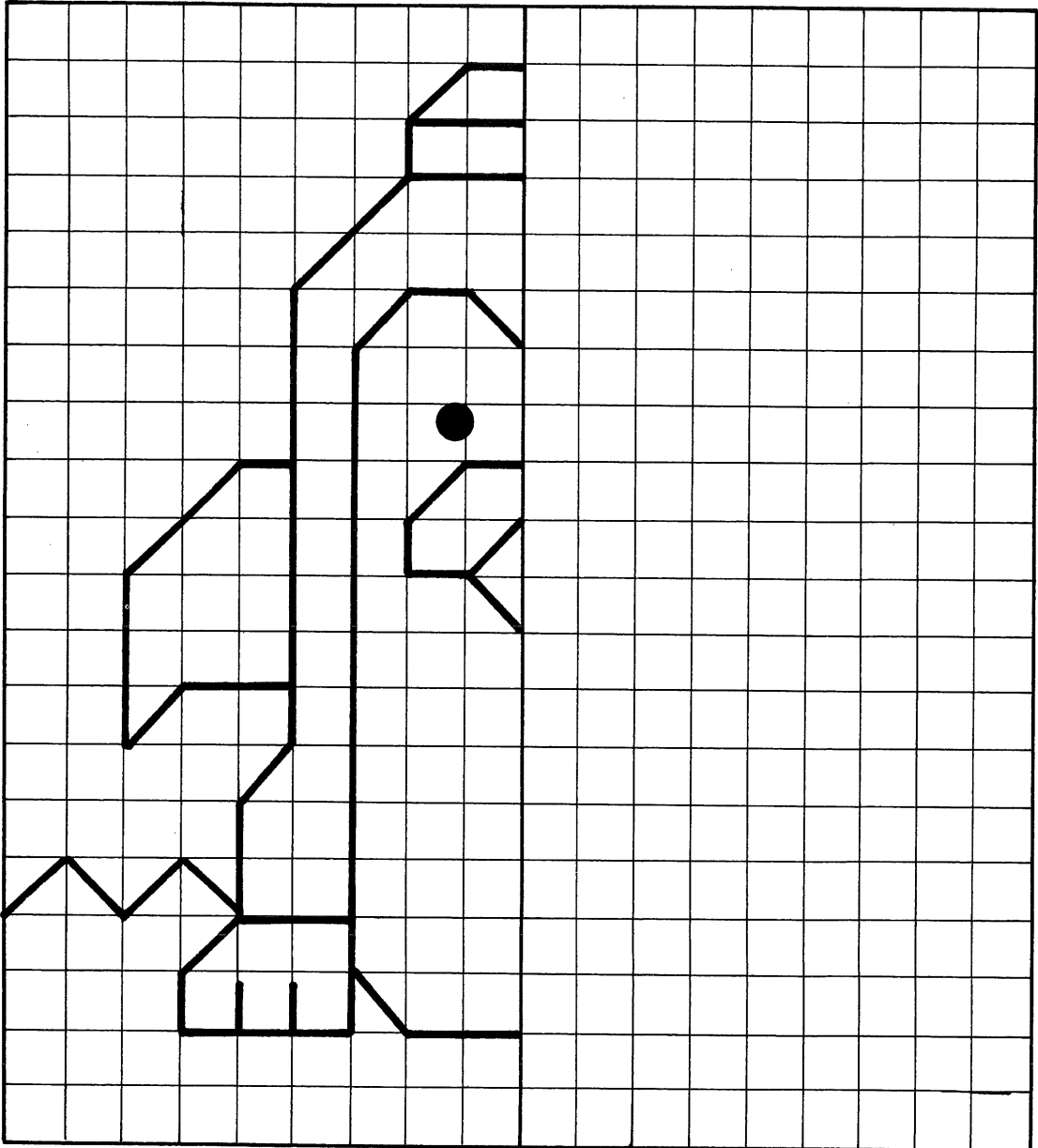
中心から左側に絵が描いてあります。この絵を見ながら、右側に逆の絵を描いてみよう。線がます目のどこにあるか、ます目を数えながら、位置を間違わないように描きましょう。さあ、どんな絵が出てくるかな？ 時間をきめて、チャレンジしよう。出きたら色えんぴつで、きれいにぬりましょう。





はんぶん お絵かきゲーム (2)

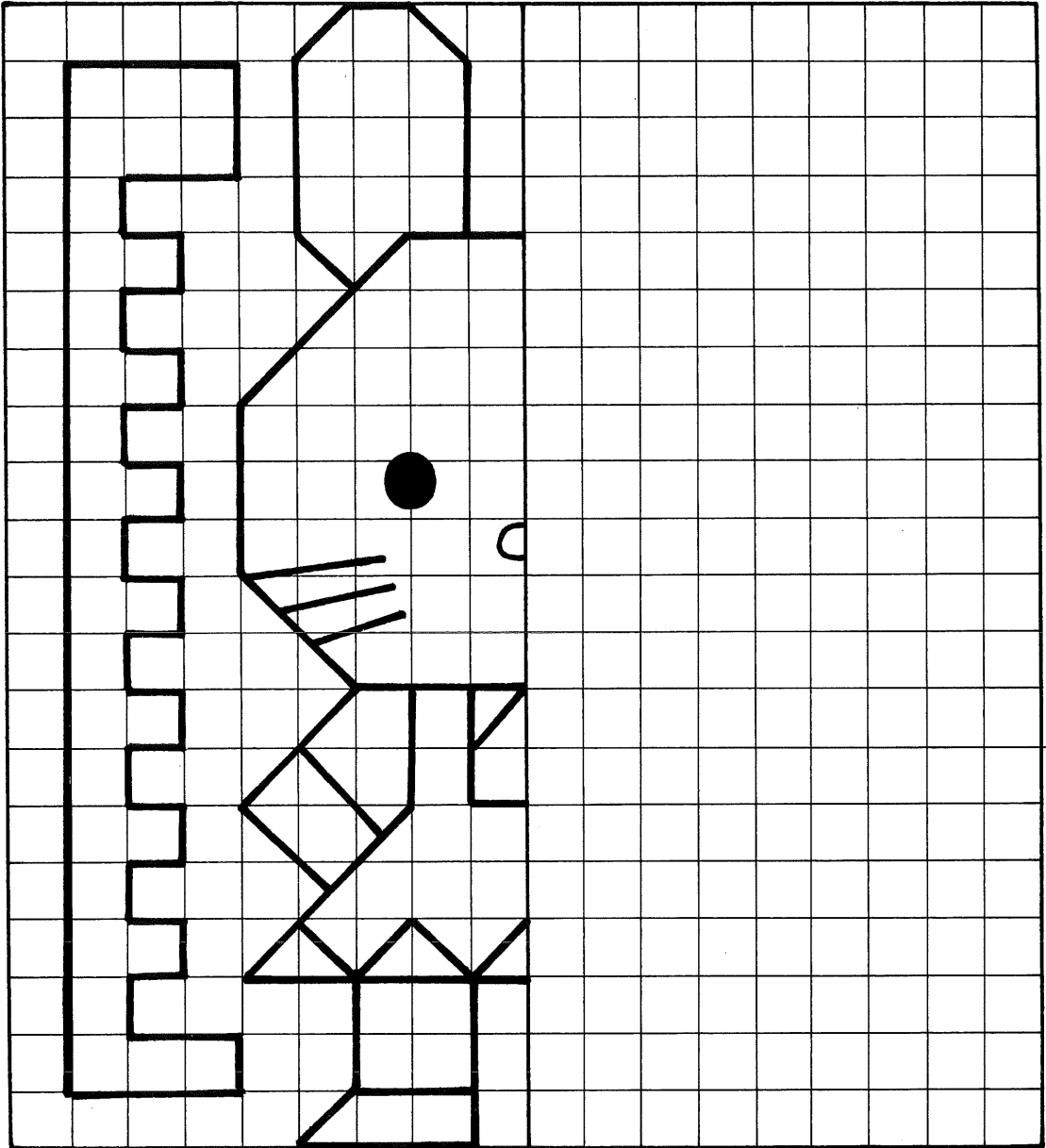
中心から左側に絵が描いてあります。この絵を見ながら、右側に逆の絵を描いてみよう。線がまず目のどこにあるか、まず目を数えながら、位置を間違わないように描きましよう。さあ、どんな絵が出てくるかな？ 時間をきめて、チャレンジしよう。出きたら色えんぴつで、きれいにぬりましよう。





はんぶん お絵かきゲーム (3)


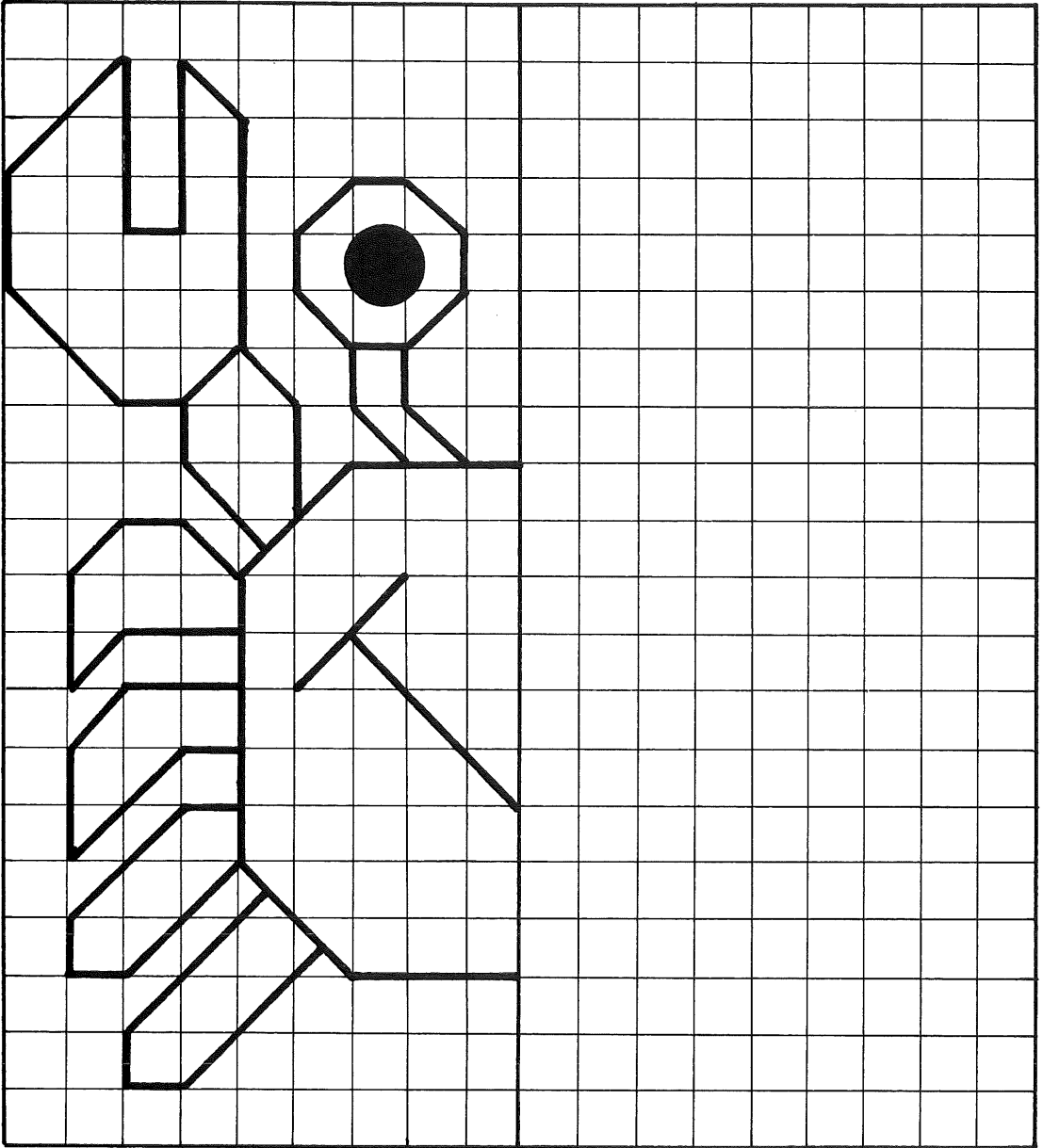
中心から左側に絵が描いてあります。この絵を見ながら、右側に逆の絵を描いてみよう。線がまず目のどこにあるか、まず目を数えながら、位置を間違わないように描きましょう。さあ、どんな絵が出てくるかな？ 時間をきめて、チャレンジしよう。出きたら色えんぴつで、きれいにぬりましょう。





はんぶん お絵かきゲーム (4)


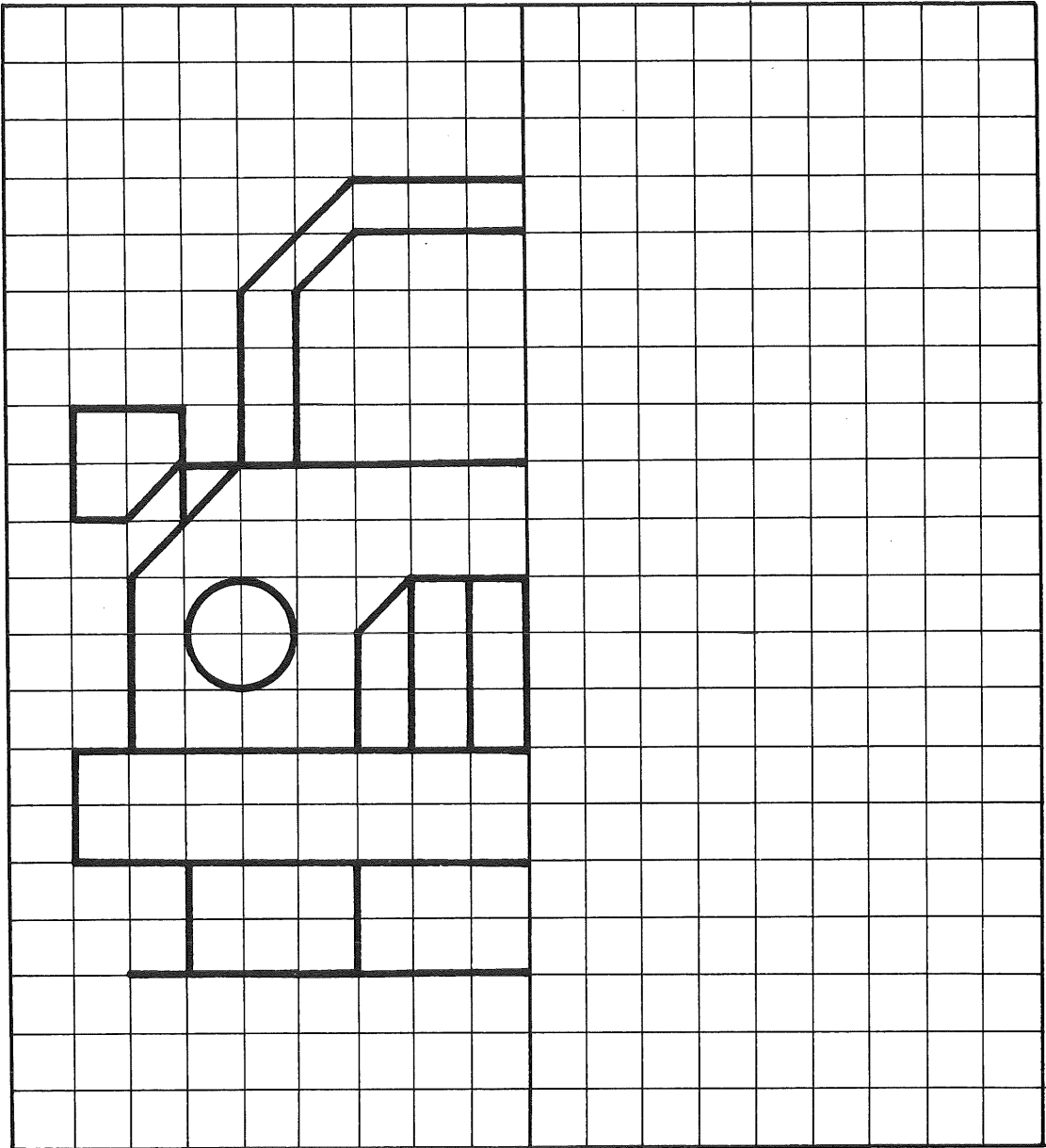
中心から左側に絵が描いてあります。この絵を見ながら、右側に逆の絵を描いてみよう。線がます目のどこにあるか、ます目を数えながら、位置を間違わないように描きましょう。さあ、どんな絵が出てくるかな？ 時間をきめて、チャレンジしよう。出きたら色えんぴつで、きれいにぬりましょう。





はんぶん お絵かきゲーム (5)

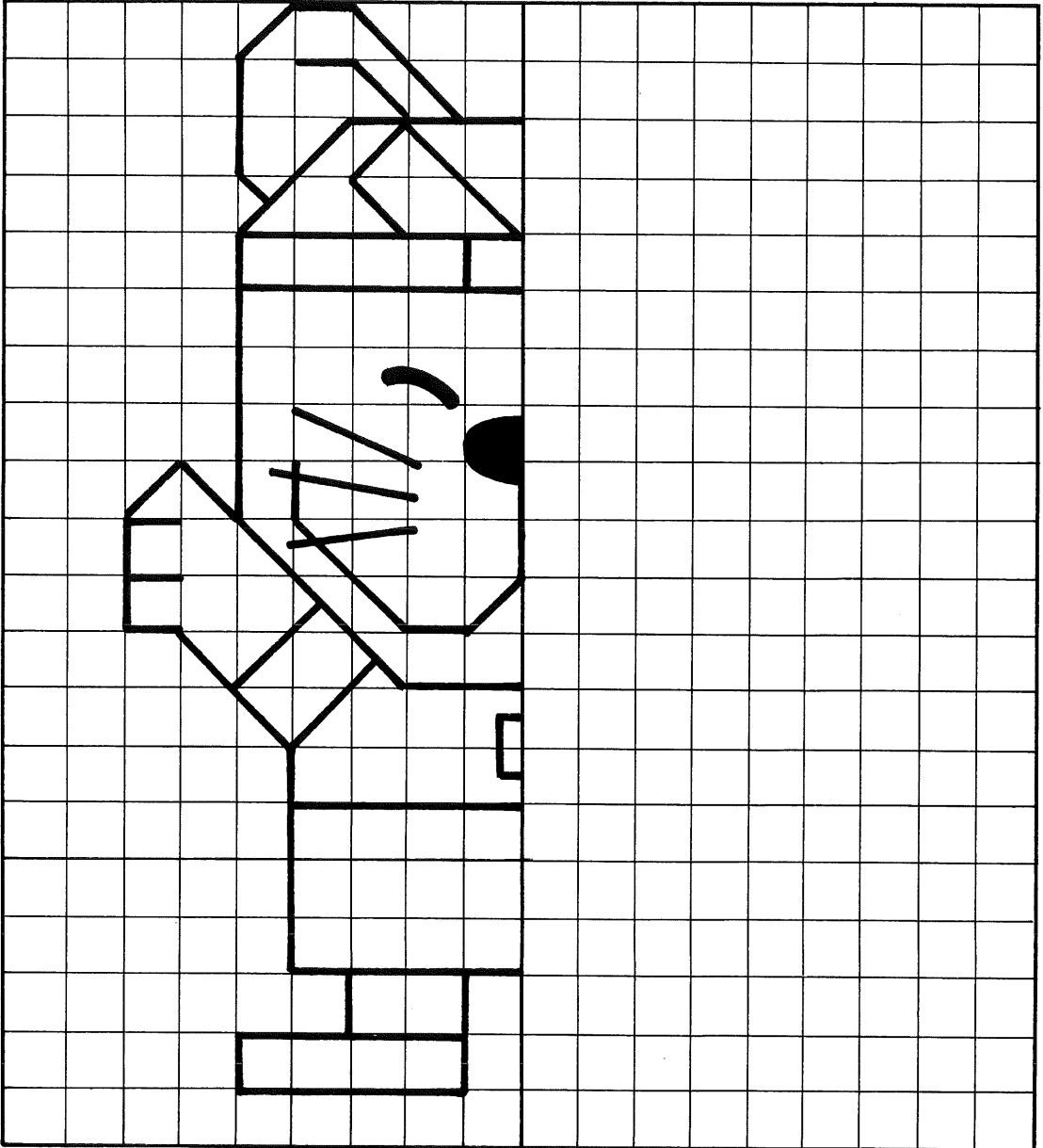
中心から左側に絵が描いてあります。この絵を見ながら、右側に逆の絵を描いてみよう。線がます目のどこにあるか、ます目を数えながら、位置を間違わないように描きましょう。さあ、どんな絵が出てくるかな？ 時間をきめて、チャレンジしよう。出きたら色えんぴつで、きれいにぬりましょう。





はんぶん ^えお絵かきゲーム (6)

中心から左側に絵が描いてあります。この絵を見ながら、右側に逆の絵を描いてみよう。線がまず目のどこにあるか、まず目を数えながら、位置を間違わないように描きましよう。さあ、どんな絵が出てくるかな？ 時間をきめて、チャレンジしよう。出きたら色えんぴつで、きれいにぬりましよう。





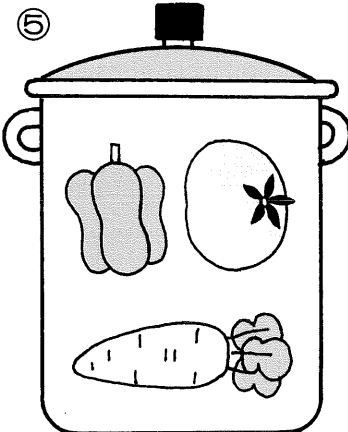









組み合わせをあてよう (1)

なべの 中に やさいが 入っています。

この中に おなじ組み合わせの やさいがあります。さあ、
なんばんと なんばんでしょうか？














組み合わせをあてよう (2)

昆虫が かごに 入っています。

この中に おなじ組み合わせの ものがあります。さあ、
なんばんと なんばんでしょうか？





わたしをさがして

たくさんの方がいます。つぎの3つのヒントから わたしをさがしてください。

- ①となりの人は、右手をあげています。
- ②ななめ下の方は、左手をあげています。
- ③ななめ上の方は、両手をあげています。

さあ、わたしは どこにいるかな？









え も じ
絵文字クイズ





(1) お花畑クイズ

下の絵は、花の名前ですが、絵と文字で描いてあるので よく分かりません。トンチで名前を当ててください。わかるかな？



(2) バードウォッチング・クイズ


これは、鳥の名前です。これも絵と文字で描いてあるので ちょっと頭を使って、トンチで名前を当ててください。





でんわを かけよう



パチくんが、パッチーちゃんに でんわをかけたいのですが、
3本のうち使えるのは 1本だけです。なんばんでしょうか？





かくれんぼクイズ




下の絵のなかに、いろいろな物がかくされています。
さて、それはなんでしょう？ いくつ見つけれられるかな？





なにが たりないかな (1)


トランプのカードがあります。とつぜん、風がふいてきてカードが とばされました。どのカードが とんだのでしょうか。AとBを見くらべて、AにあってBにないものをさがしてみましょう。





なにが たりないかな (4)


下のAの中に、てぶくろや はきものが たくさんあります。
 そこへ子犬がきて あそんでいましたが、いくつか もって
 いったようです。なにを もっていったのでしょうか。
 AとBを見くらべて、さがしてみましよう。





おばけを さがそう

ぼくは、おばけやしきで 記念写真をとってもらいました。できあがった写真を見てびっくり！ この中にほんものの おばけが入っているようです。なんばんでしょうか。





サッカーボールをさがせ!

このサッカーボールが、下のたくさんのボールの中に、入ってしまいました。

もようの同じボールはどこにあるか、さがしてみましょう。





なん 何びき いるのかな？


スケートをしている 4枚の写真があります。動きが早いので この写真の中に
同じキャラクターが だぶって写っているようです。さて、スケートをしているの
は、全部で何びきいるでしょうか？





サイコロクイズ (1)

サイコロの展開図です。①～⑥の中に 1つだけ 正しいがあります。なんばん
 でしょうか? よく考えて 見つけましょう。


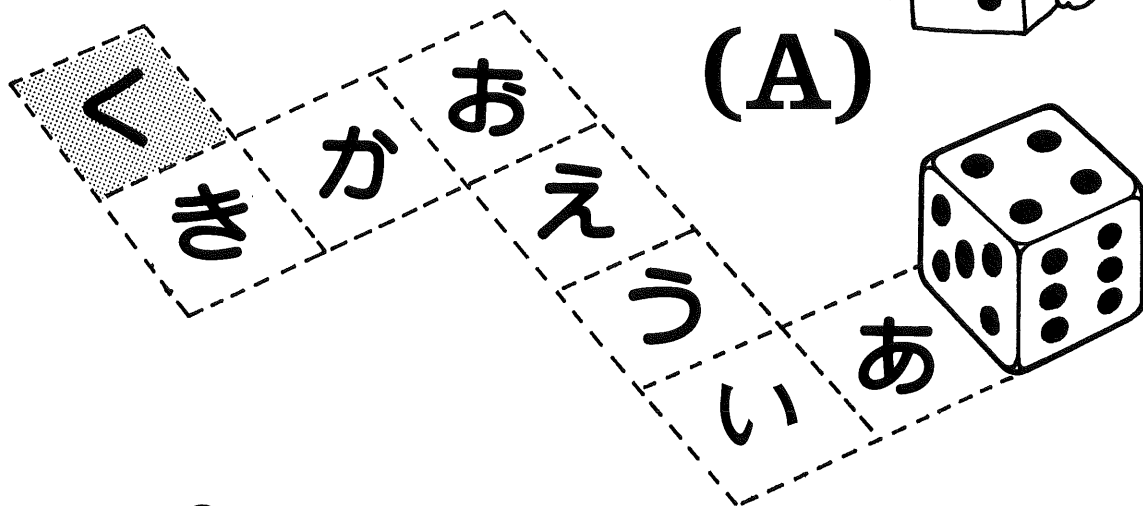




サイコロクイズ (2)


サイコロの め の数は、上と下を合計すると7になるんだよ。知っているよね。

さて、下の絵(A)のように サイコロをころがすと…、く で上になる め の数は、いくつになるでしょう。あ、い、う…の順に考えると、すぐわかるよ。



つぎは、絵(B)のようにサイコロが かさなっています。まわりから見えない め の合計はいくつでしょう。



(B)





ちょう ない や きゆう
町内野球チーム

町内に野球チームが できました。みなさん 自分のお仕事を 背番号にしていますが、
いったい どんなお仕事を しているのでしょうか？ 数字の読みかたを 考えると わかるよ。





しりとり めいろ (1)

スタートからゴールまで、鳥や虫、魚、動物の名前で しりとりをしながら進みましょう。
ななめには進めません。

スタート

お	し	ど	ら	り	ま	ま	め	ぞ
お	ど	る	す	ず	め			う
し	り	り	す	み	め			う
か			み	い	だ	か	か	し
か			う	ま	し	さ	ぶ	し
ら	す	ま	ま	か	し	む	と	ろ
す	と	ん	む		ろ	く	く	
す	ひ	か	し		ひ	よ	ま	
ず	ひ	ひ	よ	い	ら	あ	ら	あ
め			う	う	み	こ	ら	く
ば			り	た	ね	こ	こ	だ
ち	ち	ど	り	り	す	こ	ね	↓



ゴール



しりとり めいろ (2)

スタートからゴールまで、植物や野菜、くだもの名前で しりとりをしながら進みましょう。
ななめには進めません。

スタート	バ	ラ	ア	サ	ガ	ワ	ス	レ	ナ
	ツ	ラ	イ	ア	オ	ワ		グ	
	ク	タ	ラ	ツ	ク	レ		サ	
	サ			カ	ク	チ	ン	カ	サ
	ク			ン	ザ	ナ	ナ	ン	ザ
	ラ	ラ	イ	ク	サ	シ	シ	ロ	ツ
	ミ	ク	ラ	キ		サ	ク	メ	
	ヤ	ク	ツ	ウ		サ	サ	チ	
	ボ	ツ	ウ	ウ	サ	ス	ル	ー	リ
	グ			ド	リ	ベ	チ	ユ	ツ
	サ			ン	リ	ラ	チ	ユ	プ
	サ	ザ	ン	カ	カ	ラ	タ	ニ	↓















ゴール



ゴー ゴー
バイクでGOGO

三角形の町の中にバイクが入ってきました。
 同じ道を通ったり、交差したりしないで 全部の
 道路を通りたいのですが、さて、どのように進めば
 いいのでしょうか？





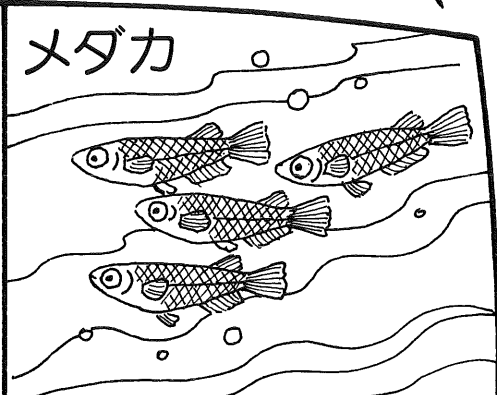



きごう
記号でよもう

文字のかわりに、●★◆などの記号で、それぞれの名前を表してあります。

よく見ると、一つの規則があるようです。規則を見つけて、なにが書いてあるのか 当ててください。共通した一つの文字さえ見つけ出せば、かんたんにわかるよ。






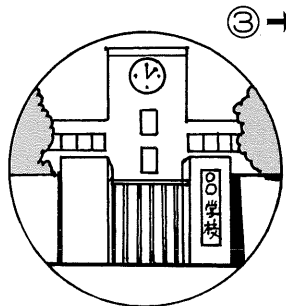
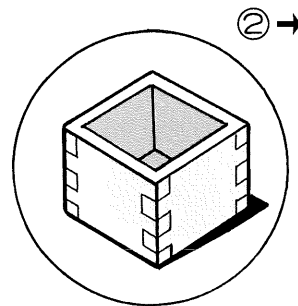
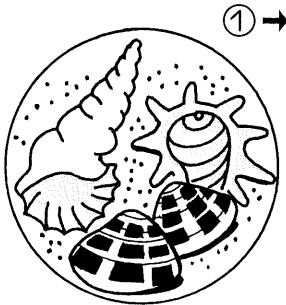


①	②	③	④
×	◆	■	●
■	○	▲	★
●	×	○	◆






絵クロスワードパズル (1)

絵をみて、絵のばんごうと 同じばんごうの マス目に 答えを書きこみます。
→がついている絵はヨコに、↓がついている絵はタテに、答えをかきこみましょう。







① →




① ↓




② →




③ →



④ →




⑤ →




⑥ ↓




⑦ ↓



⑧ ↓





⑨ ↓



絵クロスワードパズル (2)


絵をみて、絵のばんごうと同じばんごうのマス目に 答えを書きこみます。

→がついている絵はヨコに、↓がついている絵はタテに書きこみましょう。







①→




②→




④→




⑥↓



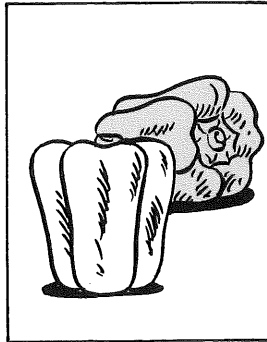
①↓



③→



⑤→





⑦↓

え
絵クロスワードパズル (3)

絵をみて、絵のばんごうと同じばんごうのマス目に 答えを書きこみます。


→がついている絵はヨコに、↓がついている絵はタテに書きこみましょう。



⑧↓




⑨↓






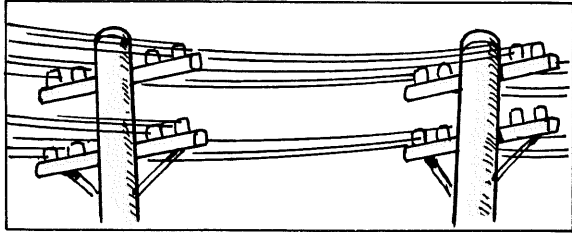
① →




② →




③ →




④ →




⑤ →




⑥ ↓




⑦ ↓




⑧ ↓




⑨ ↓



⑩ ↓





⑪ ↓



え 絵クロスワードパズル (4)

絵をみて、絵のばんごうと同じばんごうのマス目に 答えを書きこみます。

→がついている絵はヨコに、↓がついている絵はタテに書きこみましょう。





3文字クロスワード

ヒントを読んで、マス目に正しいことばを入れて
3文字のクロスワードを作りましょう。



1		3	4
2			
5			
6			ン

- 【ヒント】
- 1 いいにおいだね。
 - 2 あらそいの相手。
 - 3 子供は、吸ってはだめ。
 - 4 あぶないよ！
 - 5 こわいよ！
 - 6 結婚している人が別れること。

Ⓐ



1		3	4
2			
5		ラ	
6			ン

- 【ヒント】
- 1 オットセイににているけど大きいね。
 - 2 ねむくなると出ちゃう。
 - 3 海の中にフワフワういている動物。
 - 4 顔をきれいにすること。
 - 5 年をとったら、髪の毛がね。
 - 6 『—乗除』のこと。

Ⓑ



1		3	4
2			
5		ン	
6			

- 【ヒント】
- 1 お金を入れるもの。
 - 2 生で食べる魚の身。
 - 3 新しくすること。
 - 4 ジュースもおいしいよ。
 - 5 火がほかのものに、もえうつること。
 - 6 食器などをふく布。

Ⓒ





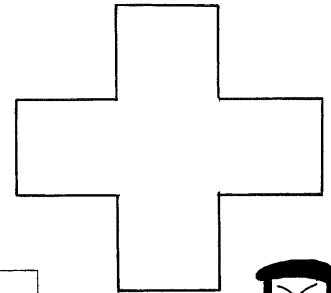
プラスでチャレンジ

マス目の中に、たくさんの数字が並んでいます。

右の \oplus 記号の形を数字の上にかさねると、数字が5つ入り、5つの数字の合計が15になるところがあります。15になるところがいくつあるか見つけましょう。

\oplus と \oplus が重なったり、5つの数字の合計が15にならないものはだめですよ。見つけたら、いろいろな色でぬってみましょう。

	5	2	1	1	2	1	3	
2	1	4	7	3	2	7	4	2
5	4	2	1	3	1	2	1	3
5	3	2	4	4	1	4	5	2
1	1	9	2	3	3	2	3	4
7	4	1	6	1	5	6	2	3
4	2	3	5	1	2	1	1	9
5	2	2	2	1	8	3	1	2
3	3	6	5	3	3	2	8	2
6	2	1	2	1	7	3	2	1
3	2	5	3	2	1	1	4	1
	5	4	2	8	3	5	7	



プラス記号



よい例

(5つの数字の合計が15)

7	4	1	6	1
4	2	3	5	1
5	2	2	2	1
3	3	6	5	3
6	2	1	2	1
3	2	5	3	2
	5	4	2	8

わるい例

(合計15だが記号が重なっている)

1	9	2	3	3
4	1	6	1	5
2	3	5	1	2
2	2	2	1	8
3	6	5	3	3
2	1	2	1	7
2	5	3	2	1
5	4	2	8	3




こう ばい すう え
公倍数 お絵かき

2の倍数でもあり、3の倍数でもある数のマス目を塗りつぶしてみましょう。
全部さがし出して塗りつぶすと、絵がでてくるよ。



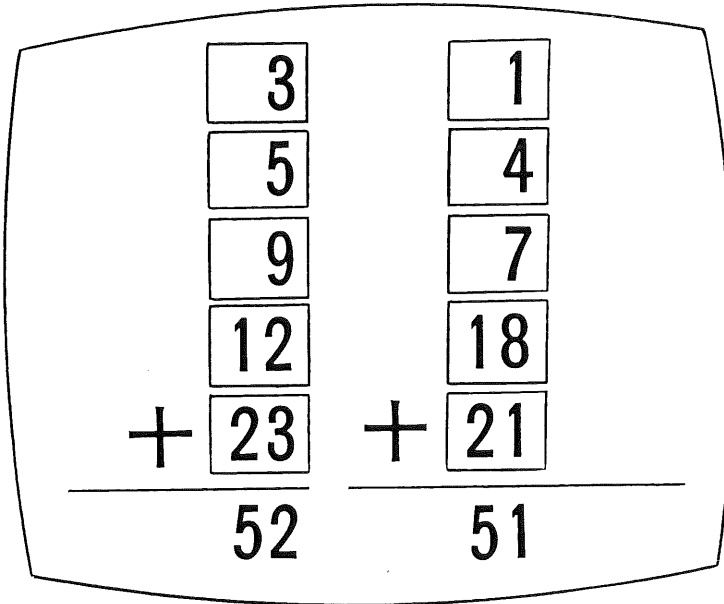
1	8	6	18	12	30	6	36	7	27	31	37
30	18	24	33	17	35	22	12	14	21	15	30
24	12	14	36	2	12	9	24	26	5	7	12
6	2	10	1	37	36	1	12	36	30	6	18
18	16	7	25	2	12	18	6	19	5	30	5
40	18	36	35	20	17	31	11	40	8	24	36
3	29	18	23	34	4	8	4	22	38	9	18
29	23	30	11	20	13	3	15	38	16	14	24
10	4	12	32	12	30	6	24	36	12	26	36
3	6	36	34	18	9	13	28	15	24	16	6
21	24	39	11	24	33	10	32	6	13	39	24
27	18	30	6	30	25	28	19	12	6	30	36





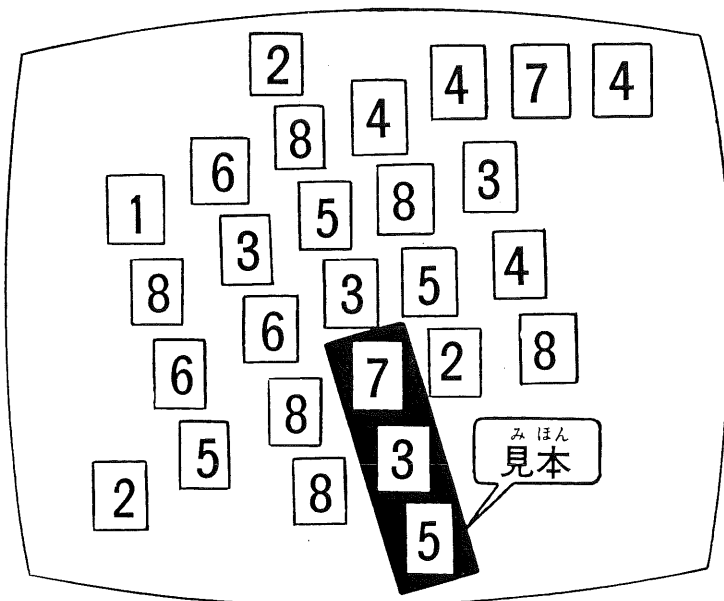
けい さん

計算クイズ



数字のカードをならべて、左のような算式をつくりました。合計はそれぞれ 51 と 52 になる。

両方の式のカードのうち、2枚を動かして、移したり、取りのぞいたりして、両方の計算の合計を同じにしたい。2枚とも取りのぞくのはダメだよ。



カードを 3枚ずつ取っていくゲームです。まっすぐに並んだカード 3枚でなければいけません。



それに、その3枚の合計は 15 になります。こうして全部のカードを取ってください。さあどういふふうにとればいでしょうか。







星座つなぎパズル

A図の8個の星を、4本の直線の一筆書きでつなぎましょう。




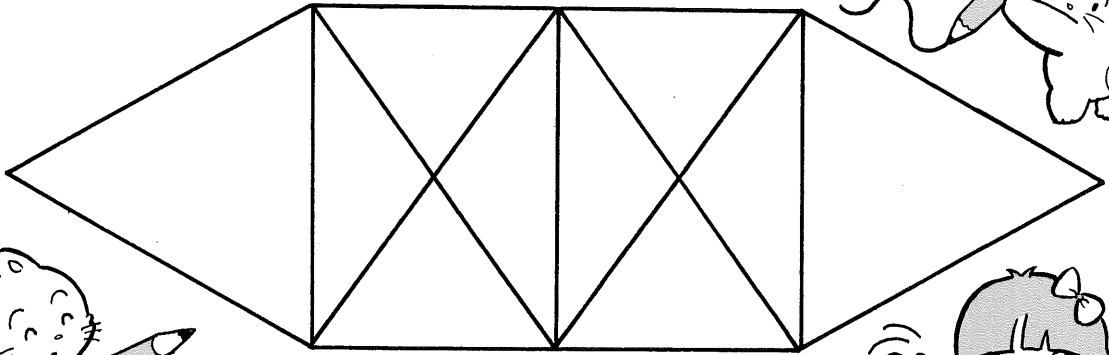
B図の9個の星を、4本の直線の一筆書きでつなぎましょう。こんどは、少しむずかしいよ。





ひとふでか
一筆で書けるかな？



- (1) 下の図形を、一筆で書いてみましょう。
どこからスタートしても、どこで終わってもいいよ！



- (2) 下の図形を一筆で書いてみましょう。ただし、図のように
右はしからスタートして、同じ場所で終わります。
少しむずかしいけど、がんばってみよう。



スタート
ゴール

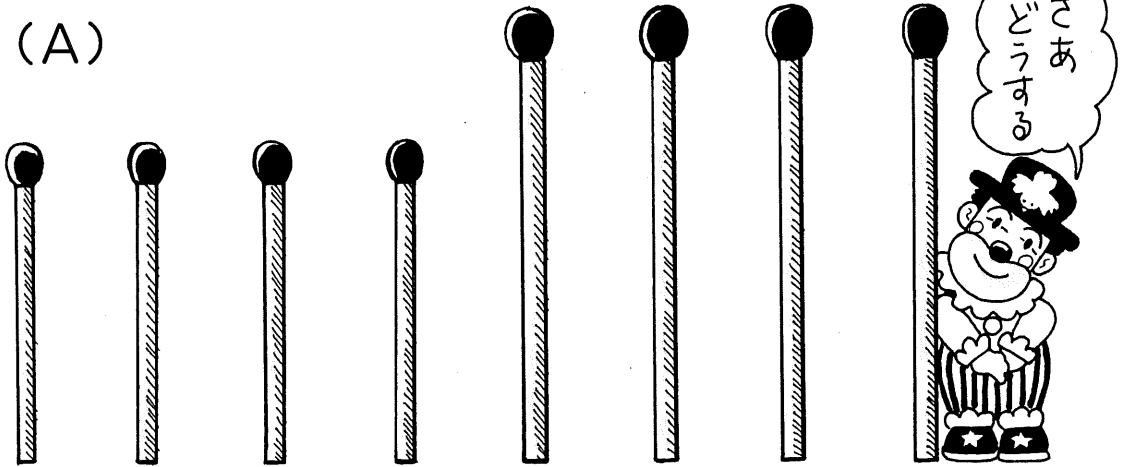




マッチぼうパズル

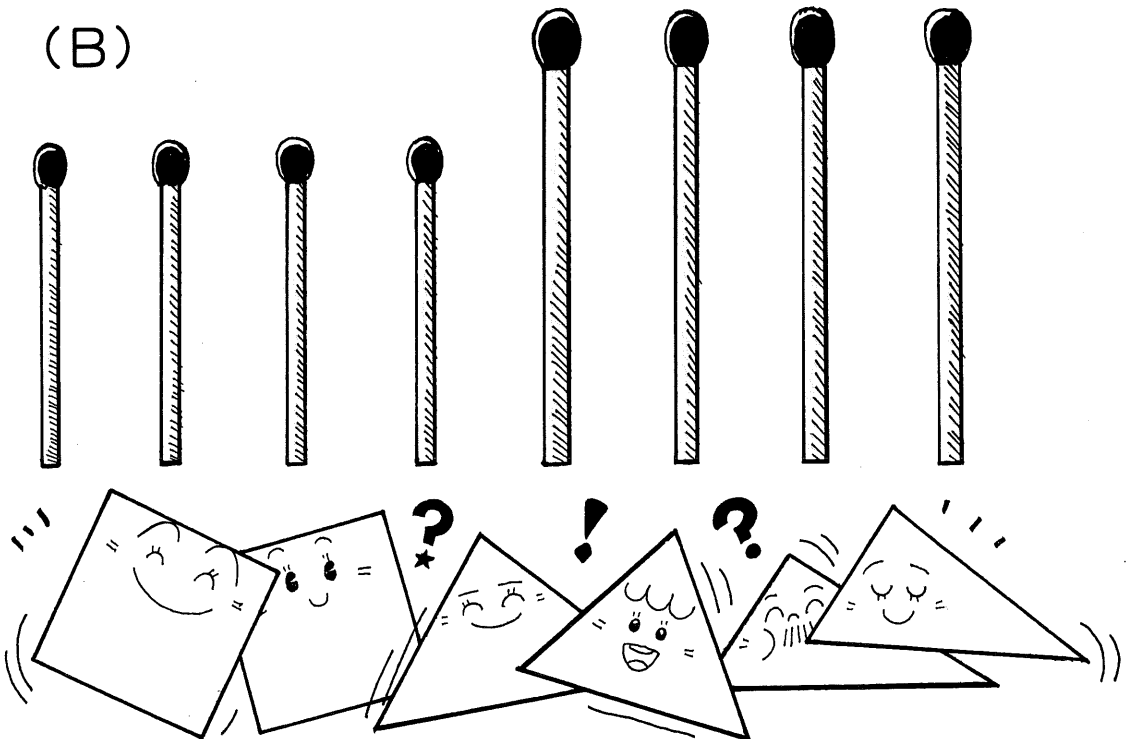
長さが4cmのマッチぼうが4本と、5cmのマッチぼうが4本ずつ、計8本あります。
これを使って、正方形2つと長方形4つを作りたいのですが、さて、どのようにすれば
いいでしょうか？

(A)



こんどは、上の問題と同じ8本のマッチぼうで、正方形2つと 三角形4つを作って
みよう。すこしむずかしいよ！



(B)





すうじ
数字のカード

下の数字のカードを 全部つかって
正しい式をつくりましょう。





ならべて見よう^み


(1) たしざん・ひきざんの もんだいです。計算ができれば、しきの よこにある

㊦ とか ㊧ の きごうを、こたえの 小さいじゆんにならべましょう。

どんな ぶんが できるかな？

やりかたの れんしゆう

㊦ $2+1$ ㊧ $1+1$ ㊨ $4+1$
こたえを 小さいじゆんに ならべると ㊩ ㊪ ㊫ になる。



- | | | | |
|----------|----------|----------|----------|
| ㊬ $7+3$ | ㊭ $12+3$ | ㊮ $6+2$ | ㊯ $17-6$ |
| ㊰ $3+3$ | ㊱ $5+4$ | ㊲ $13+6$ | ㊳ $8+4$ |
| ㊴ $10+7$ | ㊵ $2+5$ | ㊶ $7+6$ | ㊷ $8-4$ |
| ㊸ $3-2$ | ㊹ $10-5$ | ㊺ $6-4$ | ㊻ $26-8$ |
| ㊼ $21-7$ | ㊽ $8-5$ | ㊾ $25-9$ | |



こたえの ちいさいじゆんに、㊦ とか ㊬ のきごうをかく。

(2) 計算が できれば、こたえの 小さいじゆんに ならべてみよう。

- | | | | |
|----------|----------|----------|-----------|
| ㊿ $15-5$ | ㊽ $11-2$ | ㊾ $14-6$ | ㊿ $21+3$ |
| ㊾ $12-6$ | ㊿ $12-7$ | ㊽ $8+8$ | ㊾ $8+7$ |
| ㊿ $12+5$ | ㊽ $5+9$ | ㊾ $7+6$ | ㊿ $10+10$ |
| ㊽ $14-7$ | ㊾ $6+5$ | ㊿ $10+9$ | ㊽ $4+8$ |
| ㊾ $25-4$ | ㊽ $9+9$ | ㊿ $17+6$ | ㊽ $9+13$ |



こたえの 小さいじゆんに もじを かいてみよう。



けい さん

計算サッカーゲーム

スタートから計算して、答の数に かんけいのある問題を通り、ゴールをめざしましょう。
さあ、がんばって!!

スタート

$$\begin{array}{r} 247 \\ \times 3 \\ \hline \end{array}$$

$$\begin{array}{r} 741 \\ \times 5 \\ \hline \end{array}$$

$$\begin{array}{r} 3520 \\ - 121 \\ \hline \end{array}$$

$$\begin{array}{r} 3705 \\ - 1237 \\ \hline \end{array}$$

$$\begin{array}{r} 2838 \\ + 682 \\ \hline \end{array}$$

$$\begin{array}{r} 3399 \\ + 4926 \\ \hline \end{array}$$

$$\begin{array}{r} 2468 \\ \times 2 \\ \hline \end{array}$$

$$\begin{array}{r} 4936 \\ - 2098 \\ \hline \end{array}$$

$$5 \overline{)8325}$$

$$\begin{array}{r} 2220 \\ + 780 \\ \hline \end{array}$$

$$\begin{array}{r} 555 \\ \times 4 \\ \hline \end{array}$$

$$3 \overline{)1665}$$

ゴール

3000



けいさん 計算ゴルフゲーム

スタートから計算して、答の数に かんけいのある問題を通り、ゴールをめざしましょう。
さあ、がんばって!!

スタート

$$\begin{array}{r} 152 \\ \times 4 \\ \hline \end{array}$$

$$\begin{array}{r} 3648 \\ - 418 \\ \hline \end{array}$$

$$\begin{array}{r} 608 \\ \times 6 \\ \hline \end{array}$$

$$\begin{array}{r} 8229 \\ - 524 \\ \hline \end{array}$$

$$\begin{array}{r} 3230 \\ \times 2 \\ \hline \end{array}$$

$$4 \overline{) 1292}$$

$$\begin{array}{r} 2743 \\ \times 3 \\ \hline \end{array}$$

$$5 \overline{) 6460}$$

$$\begin{array}{r} 323 \\ \times 7 \\ \hline \end{array}$$

$$5 \overline{) 7705}$$

$$\begin{array}{r} 1541 \\ + 459 \\ \hline \end{array}$$

$$\begin{array}{r} 2261 \\ + 482 \\ \hline \end{array}$$

ゴール
2000



100からスタート (1)


スタートの100から進んで、50がゴールです。不等号(>、<)の向きが正しい方向に進みましょう。途中でどちらにも行けなくなったら、もどって やりなおしましょう。1つのマスは1回しか通れません。進み方はたてか横だけです。

						スタート
79	<	80	<	97	<	100
∧		∨		∨		∨
71	<	82	<	84	>	94
∨		∧		∧		∧
66	<	73	<	55	>	53
∧		∧		∧		∨
77	>	62	>	56	<	50

ゴール



71は66より
大きいから
71 > 66だよ






100からスタート (2)

スタートの100から進んで、10がゴールです。不等号(>、<)の向きが正しい方向に進みましょう。途中でどちらにも行けなくなったら、もどって やりなおしましょう。1つのマスは1回しか通れません。進み方はたてが横だけです。

スタート

79	<	83	<	91	<	100
∧		∧		∨		∨
62	<	71	>	65	>	86
∧		∧		∧		∧
88	>	64	<	32	>	23
∨		∨		∧		∨
72	<	56	>	47	<	10

ゴール





おお かず 大きな数からスタート

スタートから不等号 (>、<) の向きが正しい方向に進んで、ゴールまで行きましょう。
途中でどちらにも行けなくなったら、もどって やり直してみよう。1つのマスは1回しか
通れません。

スタート

500000	>	456323	<	205000	<	434200
∨		∧		∧		∨
490000	<	386700	>	386699	<	284225
∨		∧		∨		∧
362432	>	256450	>	143583	>	369440
∧		∧		∧		∨
284426	>	99963	>	123456	<	248321
∨		∧		∨		∨
100000	<	105251	>	99854	>	214258


ゴール





せいほうけい
正方形はいくつ

下の図の中に、正方形がいくつあるでしょうか。
 大、中、小があるから、よく見て数えましょう。





九九お絵かき

九九のこたえで ないところのますを塗りつぶすと、
絵がでできます。

さあ なんの絵が でてくるかな？





1	31	22	41	14	13	90	17	21
35	44	8	33	18	60	45	66	81
81	77	36	11	56	44	3	83	12
12	26	72	70	49	61	10	34	49
64	80	21	55	43	57	54	82	20
51	25	40	28	9	2	16	4	11
73	7	15	63	20	42	18	28	57
23	36	31	27	14	30	34	18	46
85	48	4	15	59	63	40	45	60
13	6	56	12	49	35	12	81	39
45	89	72	49	10	64	36	92	15
3	20	47	13	85	23	73	27	2



まちがいさがし (1)



上の絵と 下の絵を よく みて、ちがっている ところを 6つ さがしてね。





まちがいさがし (2)

上の絵と 下の絵を よく みて、ちがっている ところを 6つ さがしてね。





まちがいさがし (3)



上の絵と 下の絵を よく みて、ちがっている ところを 6つ さがしてね。





まちがいさがし (4)



上の絵と 下の絵を よく みて、ちがっている ところを 6つ さがしてね。





まちがいさがし (5)

上の絵と 下の絵を よく みて、ちがっている ところを 6つ さがしてね。





まちがいさがし (6)

上の絵と 下の絵を よく みて、ちがっている ところを 6つ さがしてね。

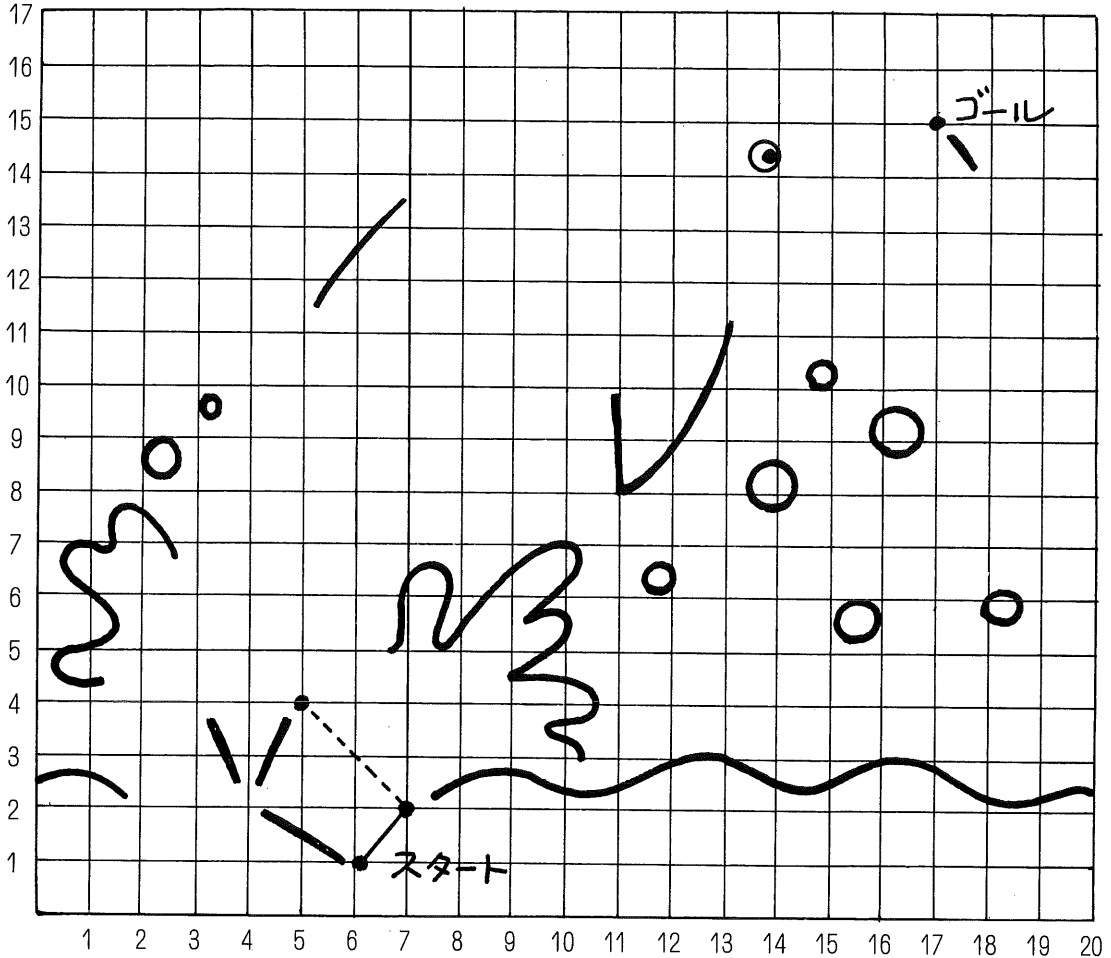




あんごう え 暗号お絵かき (1)

下に数字がたくさん並んでいます。これは暗号です。この暗号をとりて、ます目の点の位置をさがし、スタートからゴールまで線でむすぶと、絵が出てきます。


さて、何の絵が出てくるかな？ できたら色をぬりましょう。



暗号 (ヒント・たて、横の順番)

スタート

(1-6) → (2-7) → (4-5) → (6-6) → (8-8) →
 (11-12) → (12-14) → (13-16) → (14-18) → (14-15) →
 (12-11) → (10-9) → (9-7) → (10-7) → (9-6) →
 (7-5) → (4-4) → (2-4) → (1-2) → (3-2) →
 (4-3) → (6-3) → (9-4) → (11-5) → (12-3) →
 (12-2) → (13-3) → (14-6) → (14-7) → (15-9) →
 (16-11) → (16-13) → (15-15) → (15-17)

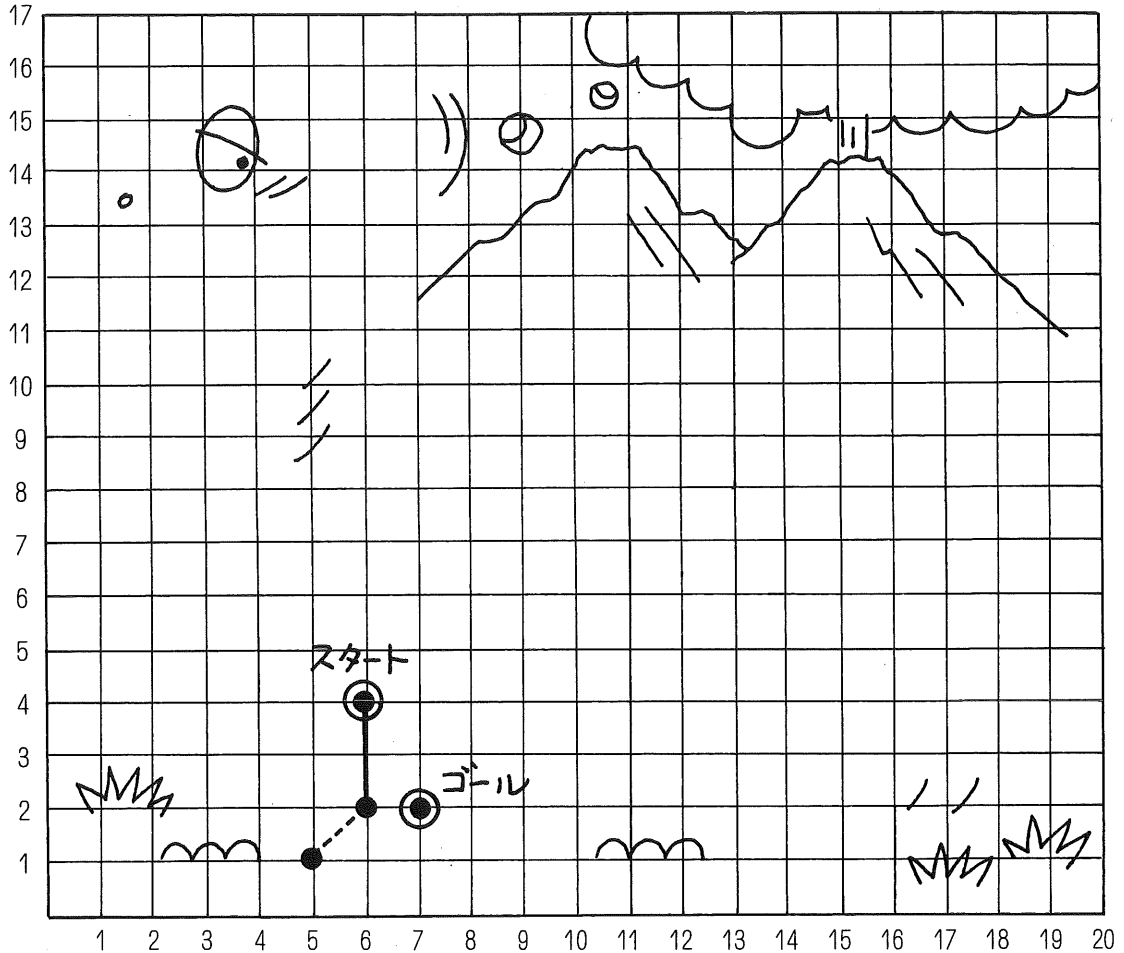




あんごう え 暗号お絵かき (2)

下に数字がたくさん並んでいます。これは暗号です。この暗号をとりて、ます目の点の位置をさがし、スタートからゴールまで線でむすぶと、絵が出てきます。

さて、何の絵が出てくるかな？ できたら色をぬりましょう。



暗号 (ヒント・たて、横の順番)

スタート

(4-6) → (2-6) → (1-5) → (1-2) → (2-3) →
 (5-3) → (6-2) → (8-2) → (12-4) → (12-3) →
 (13-3) → (12-2) → (13-1) → (14-1) → (16-4) →
 (16-6) → (14-7) → (12-6) → (9-6) → (8-7) →
 (10-9) → (10-12) → (7-15) → (6-15) → (5-16) →
 (5-17) → (7-17) → (10-15) → (11-15) → (11-16) →
 (9-18) → (7-19) → (3-19) → (2-18) → (2-15) →
 (1-14) → (1-10) → (2-11) → (2-7)

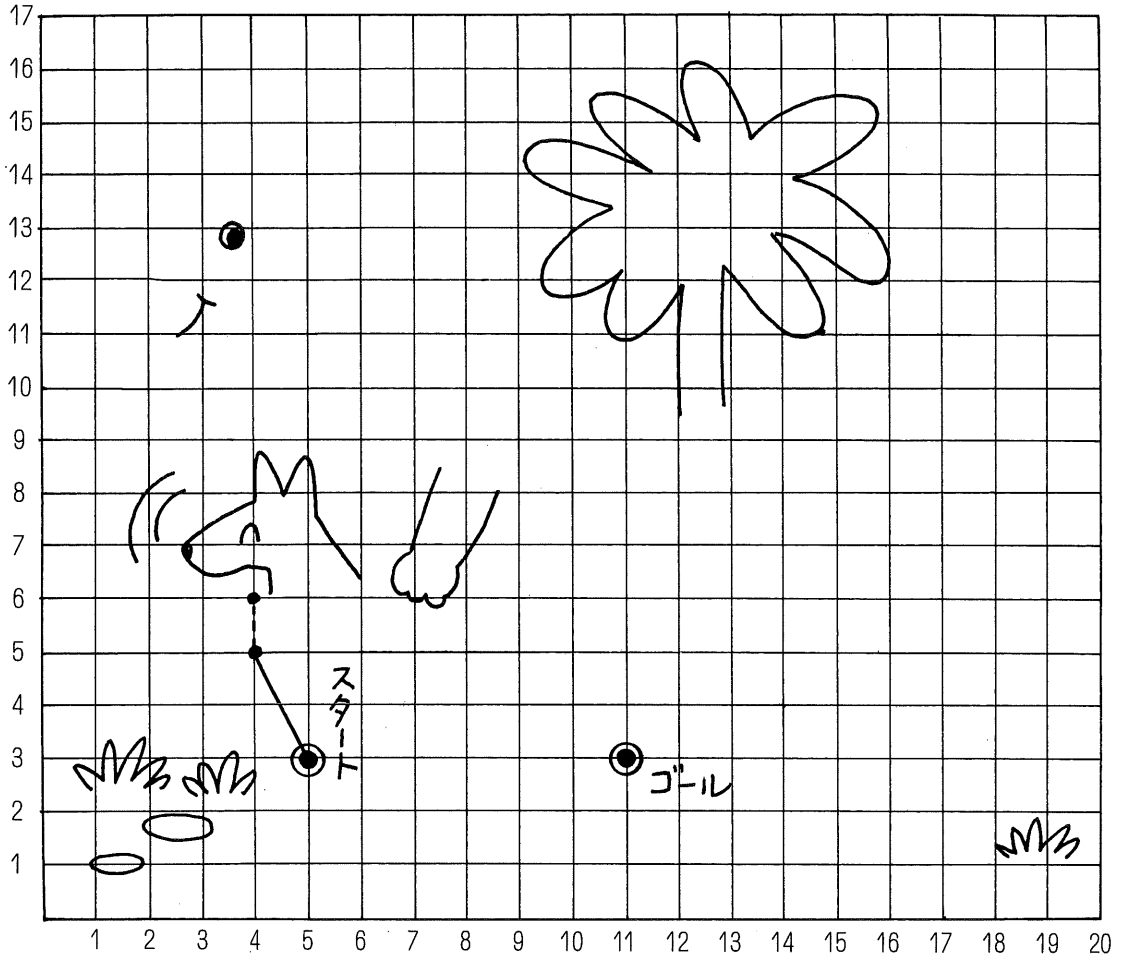




あんごう え
暗号お絵かき (3)

下に数字がたくさん並んでいます。これは暗号です。この暗号をとりて、まず目の点の位置をさがし、スタートからゴールまで線でむすぶと、絵が出てきます。

さて、何の絵が出てくるかな？ できれば色をぬりましょう。



暗号 (ヒント・たて、横の順番)

スタート

(3-5) → (5-4) → (6-4) → (6-6) → (10-6) →
 (11-5) → (11-3) → (12-2) → (14-4) → (16-3) →
 (17-4) → (14-5) → (17-6) → (15-7) → (14-6) →
 (13-7) → (11-8) → (9-11) → (5-13) → (3-15) →
 (3-16) → (4-17) → (7-16) → (9-15) → (10-16) →
 (9-16) → (8-17) → (6-18) → (3-19) → (1-17) →
 (1-4) → (2-5) → (2-8) → (3-7) → (5-8) →
 (6-10) → (5-11) → (3-11)

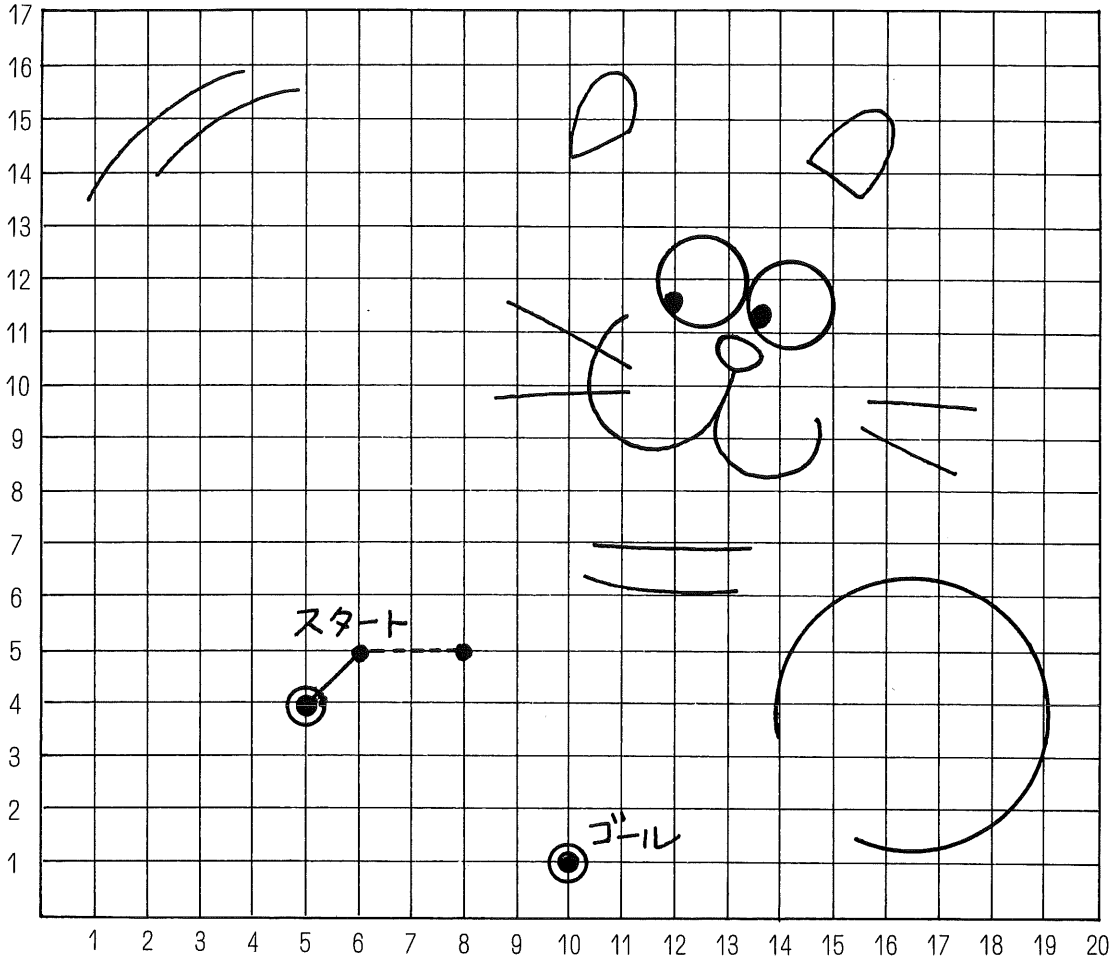




あんごう え 暗号お絵かき (5)

下に数字がたくさん並んでいます。これは暗号です。この暗号をとりて、まず目の点の位置をさがし、スタートからゴールまで線でむすぶと、絵が出てきます。


さて、何の絵が出てくるかな？ できれば色をぬりましょう。



暗号 (ヒント・たて、横の順番)

スタート

(4-5) → (5-6) → (5-8) → (4-9) → (2-9) →
 (1-8) → (1-4) → (3-2) → (6-1) → (9-1) →
 (12-2) → (14-4) → (15-6) → (14-7) → (12-5) →
 (11-4) → (7-3) → (5-3) → (4-4) → (5-4) →
 (7-5) → (8-6) → (8-8) → (7-10) → (9-8) →
 (12-8) → (14-9) → (15-9) → (17-11) → (16-12) →
 (15-12) → (15-14) → (16-16) → (16-17) → (14-17) →
 (13-16) → (11-17) → (8-16) → (7-14) → (5-13) →
 (3-13) → (3-14) → (2-15) → (1-15) → (1-10)

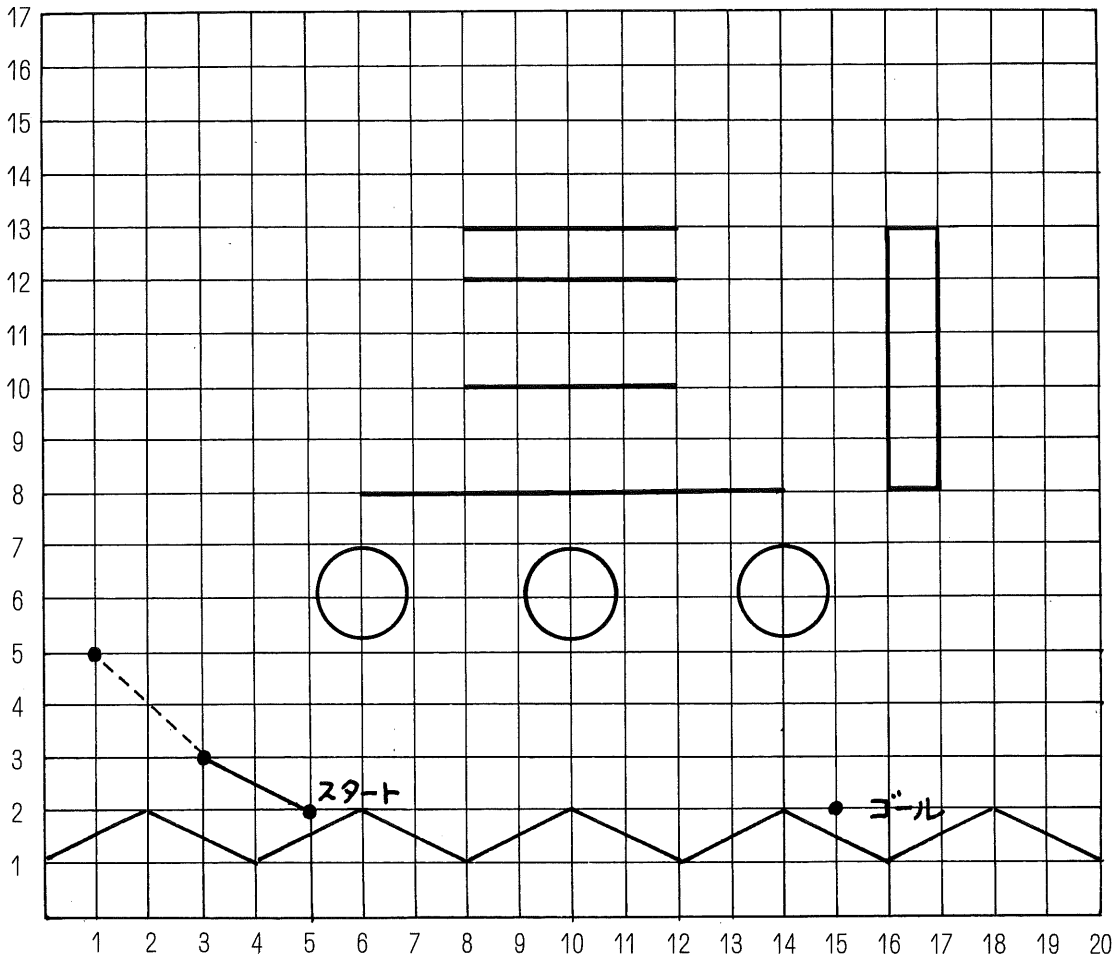




あんごう え 暗号お絵かき (6)

下に数字がたくさん並んでいます。これは暗号です。この暗号をとりて、ます目の点の位置をさがし、スタートからゴールまで線でおすぶると、絵が出てきます。


さて、何の絵が出てくるかな？ できれば色をぬりましょう。



暗号 (ヒント・たて、横の順番)

スタート

(2-5) → (3-3) → (5-1) → (8-1) → (8-3) →
 (12-1) → (12-2) → (10-3) → (14-3) → (14-4) →
 (10-4) → (12-5) → (12-6) → (8-4) → (8-6) →
 (10-6) → (10-8) → (14-8) → (14-12) → (10-12) →
 (10-14) → (8-14) → (8-15) → (14-15) → (14-18) →
 (8-18) → (8-19) → (5-19) → (3-17) → (2-15)





たし算^{さん}パズル

右の例をよく見て考えてください。

同じアルファベットには、同じ数字が入る...
ということで、たし算をするとアルファベットの
Aには1、Bには2、Cには3が入ることが
わかります。では、下の絵の同じ品物や動物に
も同じ数字が入るといふことで、2つのたし算
をしてみよう。消しゴム、そろばん玉、えんぴつ、
キリン、ソウ、ライオンには、それぞれどんな
数字が入るでしょうか？

〔例〕

$$\begin{array}{r}
 \begin{array}{ccc}
 C & A & B \\
 A & C & B
 \end{array} \\
 \hline
 4 \quad 4 \quad 4
 \end{array}$$

Diagram showing the example addition. The top row has C, A, B and the bottom row has A, C, B. A horizontal line is below. The result is 4, 4, 4. Arrows point from the top row to the result: C to 4, A to 4, B to 4. Arrows also point from the bottom row to the result: A to 4, C to 4, B to 4. Labels '同じ' (same) are placed near the arrows to indicate that the same letter corresponds to the same number.

Ⓐ

$$\begin{array}{r}
 \begin{array}{cccc}
 \text{Pencil} & \text{Eraser} & \text{Eraser} & \text{Eraser} \\
 + & \text{Eraser} & \text{Eraser} & \text{Eraser} \\
 \hline
 1 & 7 & 7 & 7
 \end{array}
 \end{array}$$

Diagram for problem A. The top row shows a pencil, an eraser, an eraser, and an eraser. Below it is a plus sign and another row of an eraser, an eraser, and an eraser. A horizontal line is drawn. Below the line are the numbers 1, 7, 7, 7.

Ⓑ

$$\begin{array}{r}
 \begin{array}{cccc}
 \text{Giraffe} & \text{Lion} & 6 & \\
 3 & \text{Giraffe} & \text{Elephant} & \\
 + & \text{Elephant} & 9 & 7 \\
 \text{Lion} & & & \\
 \hline
 5 & 5 & 5 & 5
 \end{array}
 \end{array}$$

Diagram for problem B. The top row shows a giraffe, a lion, the number 6, and a blank space. Below it is the number 3, a giraffe, an elephant, and a blank space. Below that is a plus sign, an elephant, the number 9, the number 7, and a lion. A horizontal line is drawn. Below the line are the numbers 5, 5, 5, 5.

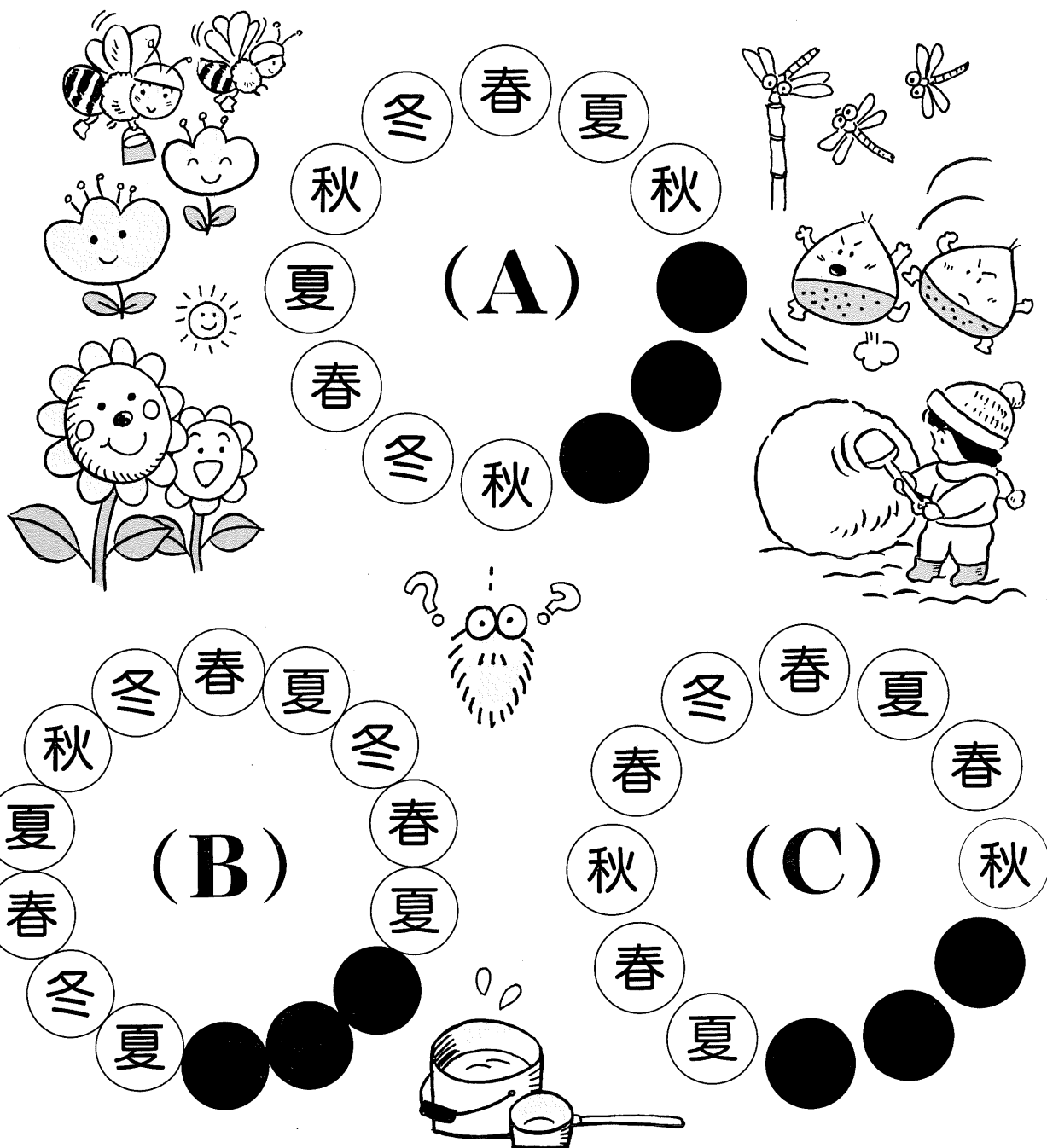




かくれた文字をあてよう

文字がまるく ならんでいますが、●でかかれているところがあります。

さて、●の中には どんな文字が入っているんだろう？ A・B・Cはそれぞれ、ある規則にしたがって、ならんでいます。わかるかな？






1から49までレッツゴー!

下の図には、49のマス目があります。①からスタートして、すべてのマス目を通り、右下の49のマス目にゴールしてください。ただし、たて、横には自由に進むことができるが、ななめには進めません。マス目の途中に書いてある数字は通りすぎる順番で、その数が合うようにコースを考えて進みましょう。

スタート

	②0			①5		①
②5					⑩	
		④0				
		③5		④5		⑤
	③0					④9

ゴール





きごう 記号をみつけよう (1)

下の計算問題で、答が200になるところに 色をぬると、記号がでてきます。
何の記号かな？

$140 + 40$	$300 - 150$	$50 + 95$	50×6
100×2	$180 - 40$	20×10	
$90 + 45$	25×8	50×4	$150 + 5$
$200 - 150$	$180 + 20$	25×10	
60×5	40×5	$300 - 100$	25×4
$100 + 100$	$300 - 200$	$164 + 36$	
$40 + 80$	40×6	$200 - 50$	30×5






きごう 記号をみつけよう (2)

下の計算問題で、答が200になるところに 色をぬると、記号がでできます。
何の記号かな？

$800 - 500$	$500 - 200$	$650 - 300$	$900 \div 9$
	$460 - 160$	$800 \div 4$	
$300 \div 2$	65×4	6×100	
	$352 - 152$	$600 \div 3$	
	$850 \div 5$	$210 - 15$	50×6
$400 + 200$	$400 \div 2$	$700 - 300$	
		$850 \div 5$	150×2



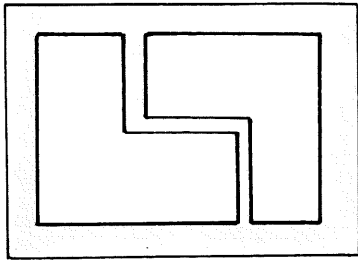


うまく組み合わせよう

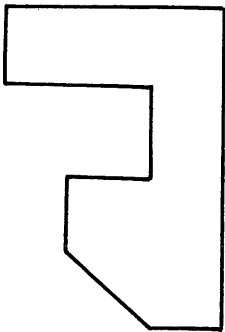
長方形の紙を下の図のように切って、バラバラにしてあります。それを組み合わせると例のような もとの長方形になる。さて、どれとどれを組み合わせればいいのかな。

また、どれとも合わないものが1つあるが、どれだろう？ 図形はにが手なんだ…など いわずチャレンジ！

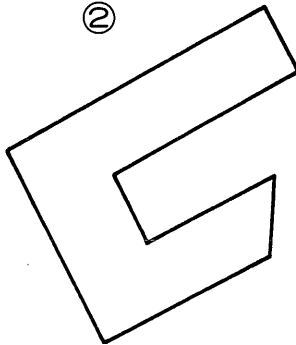
例



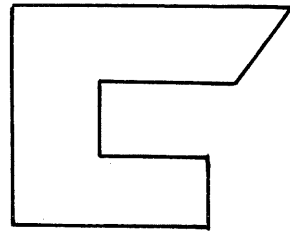
①



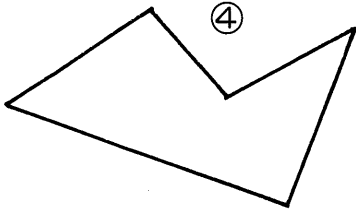
②




③



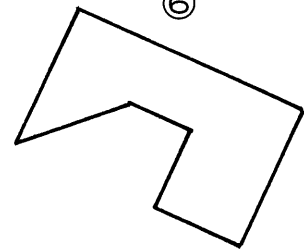
④



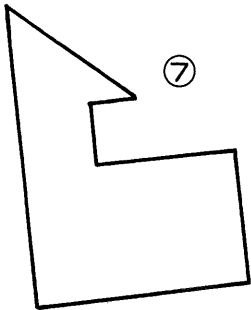
⑤



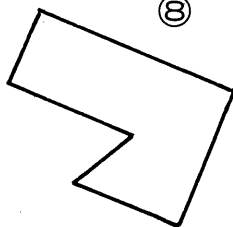
⑥



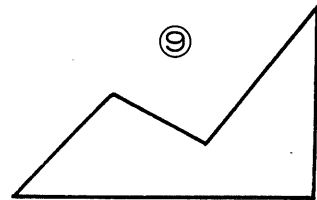
⑦



⑧



⑨



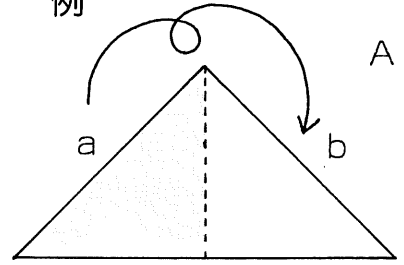


せいほうけい

正方形にしよう

右の例のように、三角形をまん中から切って、ななめの辺aとbの面をあわせると、正方形になります。さて、下の①から⑥までの形のどこかを直線で2つに切って、正方形にするには、どこを切ったらいいでしょうか。例のように、切った2つの形が、同じとはかぎりません。

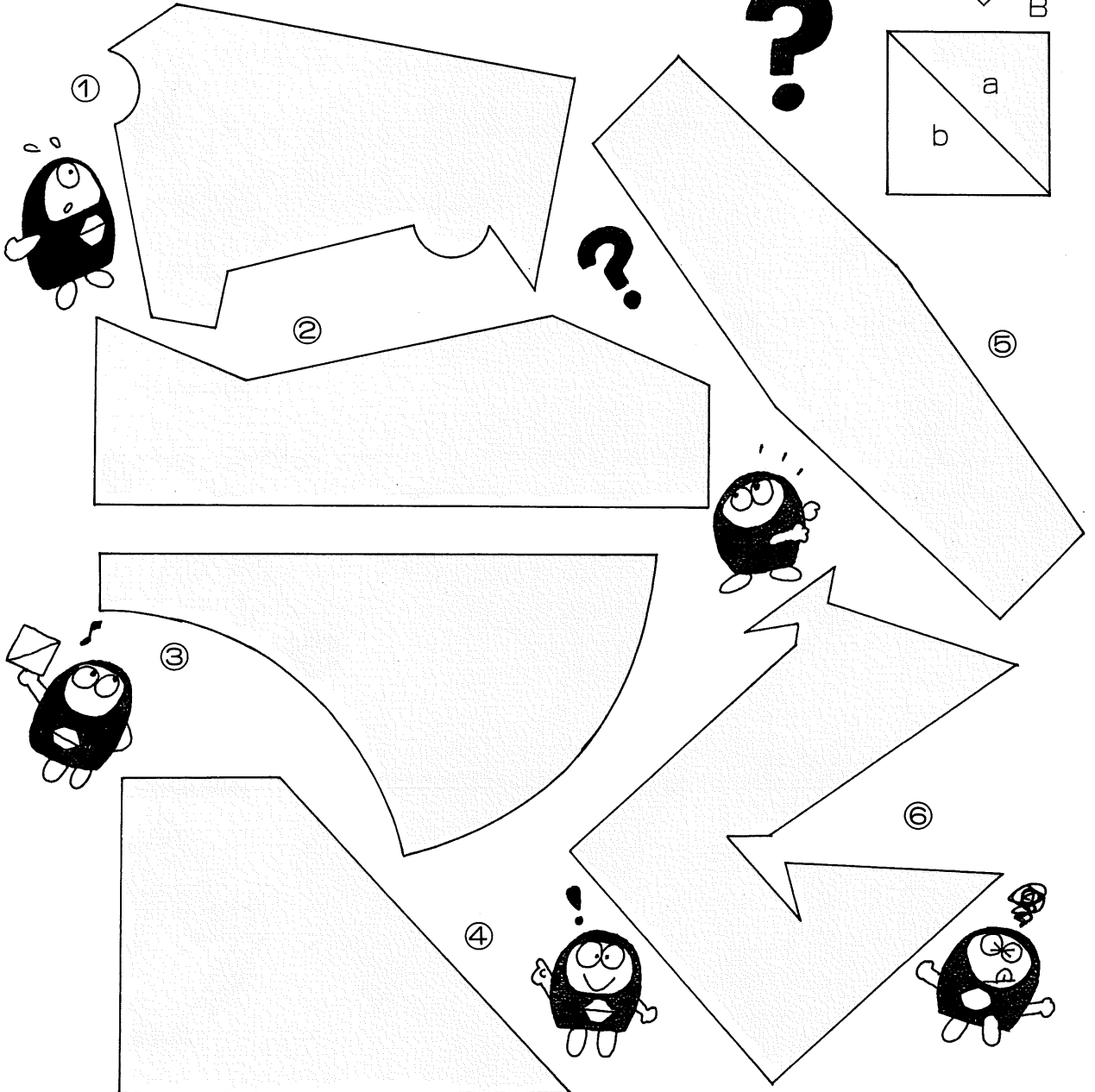
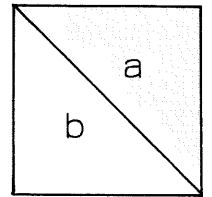
例



切る



B



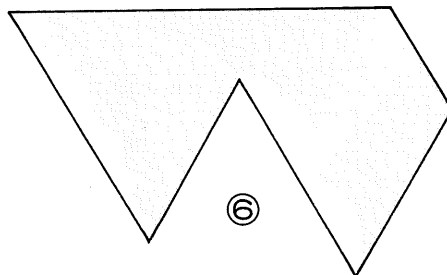
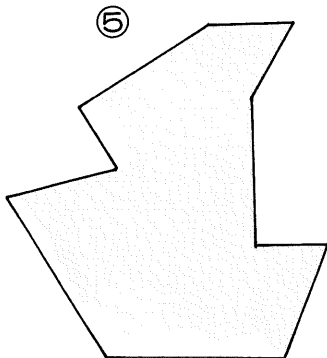
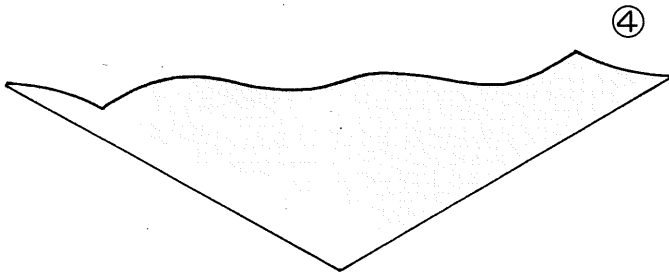
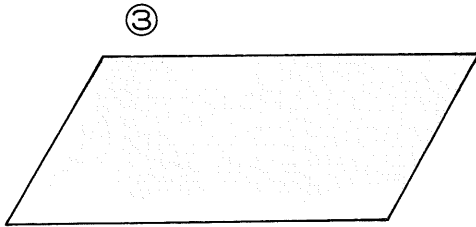
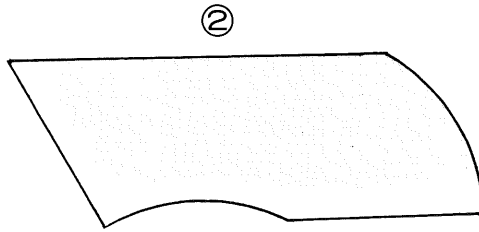
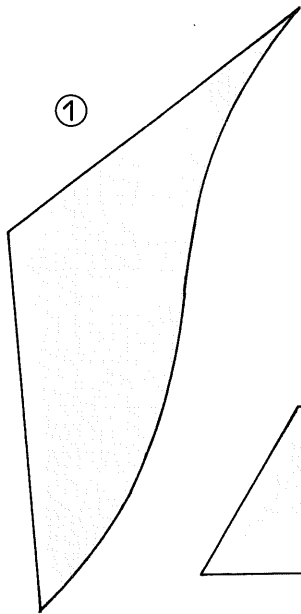
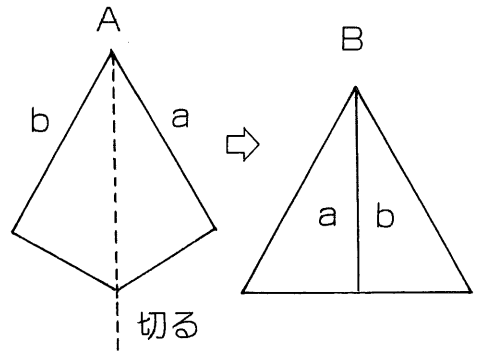




せいさんかくけい

正三角形にしよう

右の例のように、A図のまん中をまっすぐに切って、左右を入れかえてaとbの面を合わせれば B図のように正三角形になります。では、下の①から⑥までの図は、どこを直線で切って、どのように合わせれば正三角形になるでしょうか。






クロス計算 (1)

下の表の あいている□に 正しい数字を入れて、たて、横の計算がすべて正しい式になるようにしましょう。(左はしの たての列は $8 - \square = 4$ という事です)

8	+		=	11
-		+		-
	-		=	
=		=		=
4	+		=	9






クロス計算 (2)

下の表の あいている□に 正しい数字を入れて、たて、横の計算がすべて正しい式になるようにしましょう。

12	×		=	24
÷		×		÷
	÷		=	
=		=		=
2	×		=	12







クロス計算 (3)

けい さん

同じアルファベットは、同じ数字です。アルファベットを数字にかえて、たて、横の計算が正しくなるようにしましょう。よく考えてね。



4	+	A	=	D
+		+		
C	-	A	=	A
B	-	C	=	4






けいさん クロス計算 (4)

同じアルファベットは、同じ数字です。アルファベットを数字にかえて、たて、横の計算が正しくなるようにしましょう。よく考えてね。

4	+	A	=	B
+		+		I
C	-	D	=	A
E	-	C	=	4






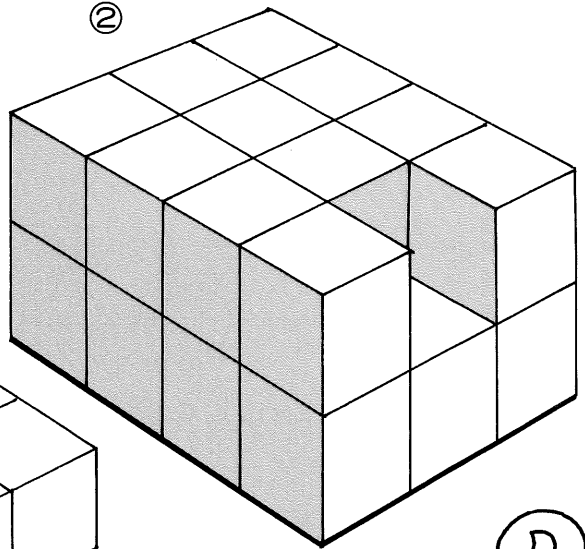
はこ かず
箱の数をあてよう (1)

同じ大きさの箱が重なっています。この中で 箱の数が1ばん多いのは どれかな？
見えていない箱も 忘れないで数えてね。

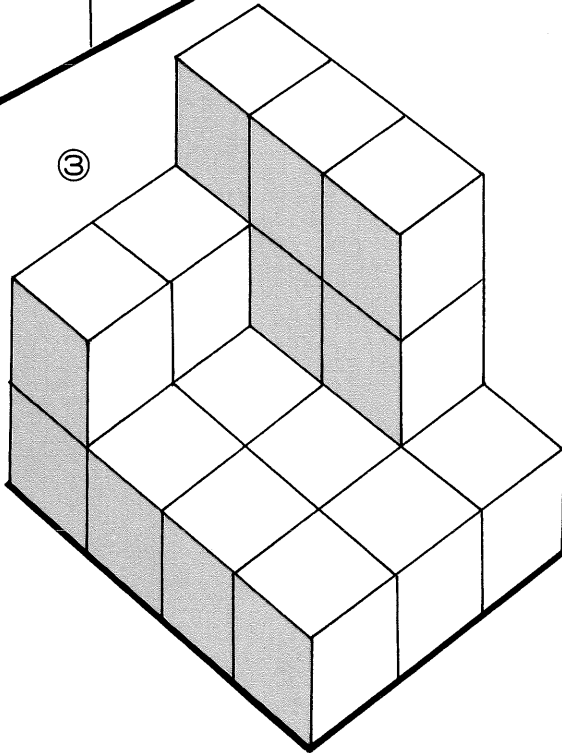
①



②



③

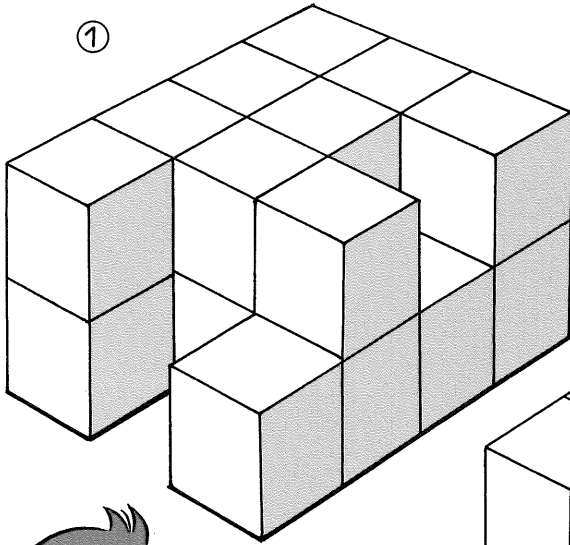




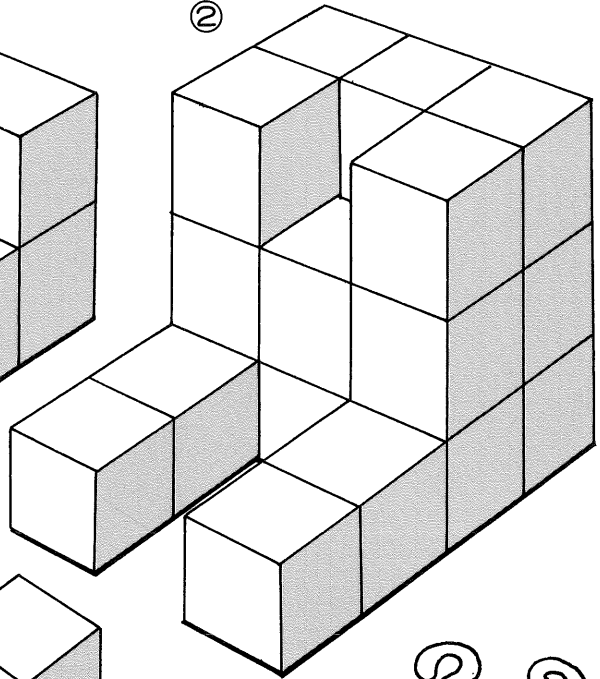
はこ かず
箱の数をあてよう (2)

同じ大きさの箱が重なっています。この中で箱の数が1ばん多いのはどれかな？
見えていない箱も 忘れないで数えてね。


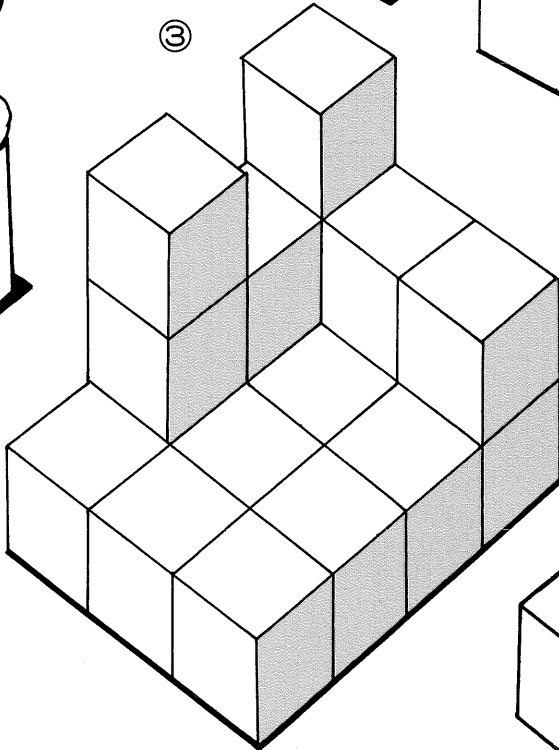
①



②



③






えん

円わりパズル

円を1本の線で2つに分けて、その中の合計が2つとも、同じになるように
しましょう。



こんどは、円を2本の線で3つに分けて、その中の合計が3つとも同じに
なるようにしましょう。ちょっとむずかしいけど、がんばってみよう。






ことばのクロスワードパズル

下の例は たてによむと『メガネ』、横によむと『ハガキ』です。

このようにして、①から⑧までの □の中に どのような 文字が 入るか 考えよう。できたら じぶんでも いろいろ 作ってみよう。


	①		②			
れい 例	メ		ア		イ	
ハ	ガ	キ	ク		ズ	カ
	ネ		ス			カ
	③					
	バ		④	ユ		ト
ハ		ビ	ク		キ	モ
	ナ		キ			イ
	⑥					
	り		だ			ら
さ		ご	い		か	さ
	ご					ら
			ま			だ





トランプカード かず 数あわせ

下に9枚のトランプのカードがならんでいます。その中のどれか3枚だけを移動させて、たて、横、ななめ3枚の合計が、同じ数になるようにしてください。ハート、クローバーといった記号は関係ありません。







ゲタさがしゲーム

下の図形はゲタを表しています。
下の図の中に、ゲタは全部でいくつ
あるでしょう。

おちついて、よく考えて数ぞえて
みよう。




ゲ タ





ずけい
図形あそび

大きい円と 小さい円があります。この2つの円を 下の正方形の中に ぴったりおさめるには、どのようにしたらよいでしょうか。重なったり、はみだしてはいけません。円を切る前に 色をぬっておくと、きれいです。





かくれた すうじ さがし


たてに ならんでいる すうじを 3つたすと 4になります。

横に ならんでいる すうじを 3つたしても 4になる。

さあ、どんな すうじが かくれて いるかな？

1		2
	3	
2		

2		1
0		



つぎは、たても 横も 合計が 5になるように あいているところに すうじを 入れてみよう。ひとつわかると つぎつぎに わかるよ。

3		2
		1
	2	

		0
2		
		3



こんどは、たて 横の 合計が 6です。

1	3	
		4
5		


1		
	2	
		3



さいごは、たて 横が 8になるように しましょう。

2		1
2		
	3	

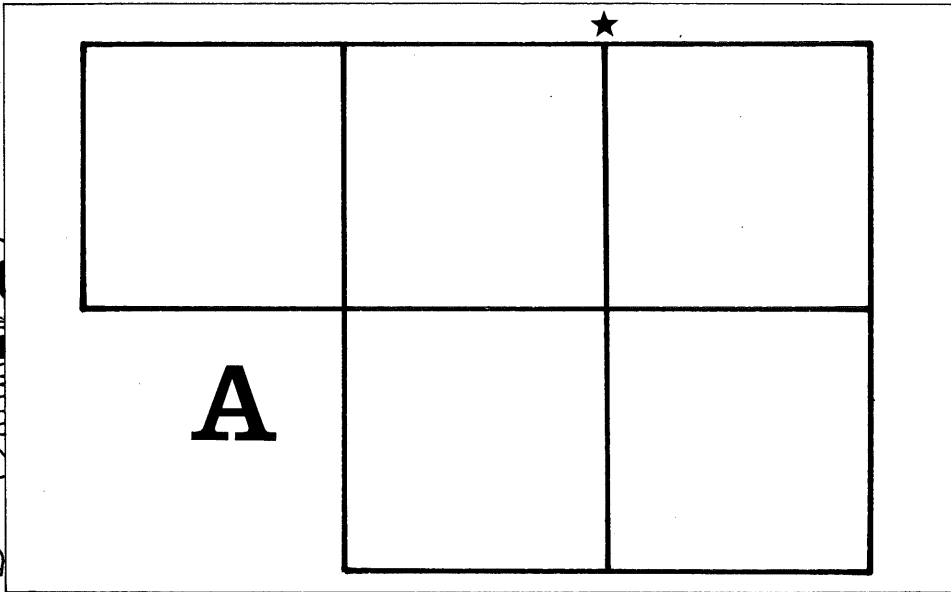
		1
	5	
3		



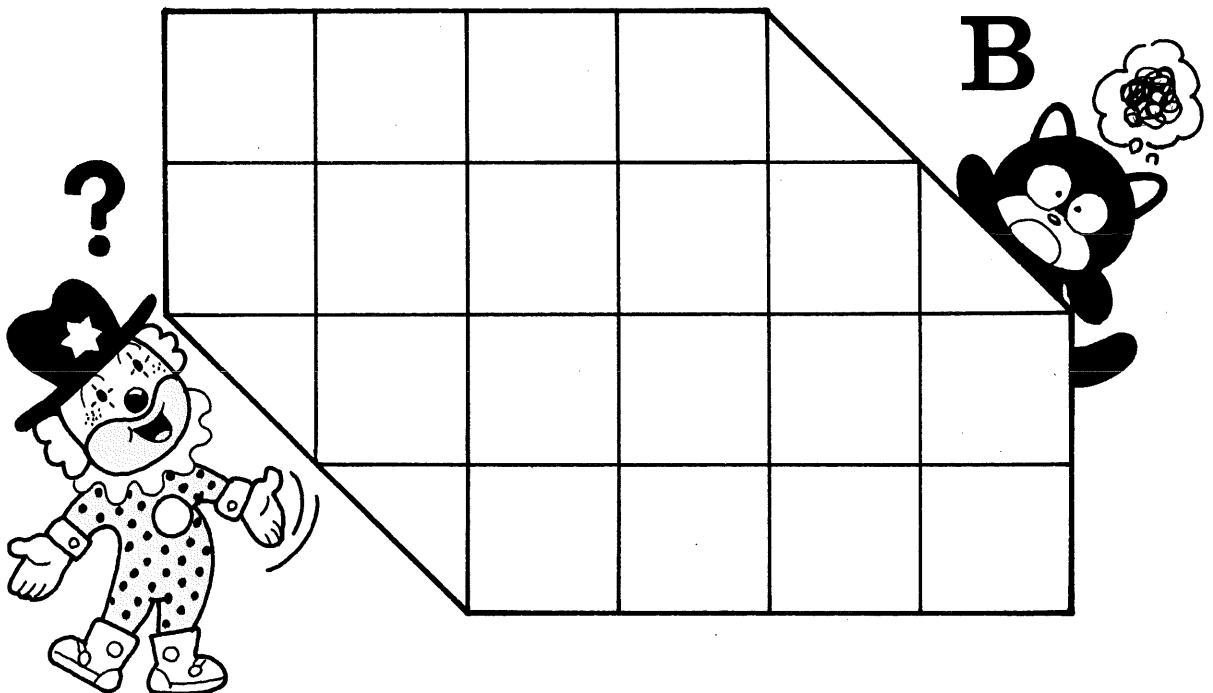


つなぎ合わせクイズ

下図Aは、正方形を5つ つなぎ合わせたものです。これを3つに切り うまく組み合わせて正方形にしたいのですが、さて、どのように切ればいいでしょうか？ ヒントは★印のところだよ。



下図Bの紙を 線にそって2枚に切りはなし、それをつなぎ合わせて 十字の形を作りたい。さあ、どこを切ればいいでしょうか？





タイルのパズル

下のワクの中に、①から④までの 4 枚のタイルを はめこんでください。
まん中の星印のところにくるのは、何ぱんのタイルでしょうか？

わかった!

わからなかったら切っておいてみよう

①

②




③

④



はた めん せき
旗の面積あてクイズ

チェックもようの 旗があります。さて、下の A B のどちらかが 同じ面積ですが、
 いったい、どちらでしょうか？





パネルの面積は？

チェックもようの パネルが 4 枚あります。この中で、いちばん面積の 広いのは なんばんでしょうか？

①

②


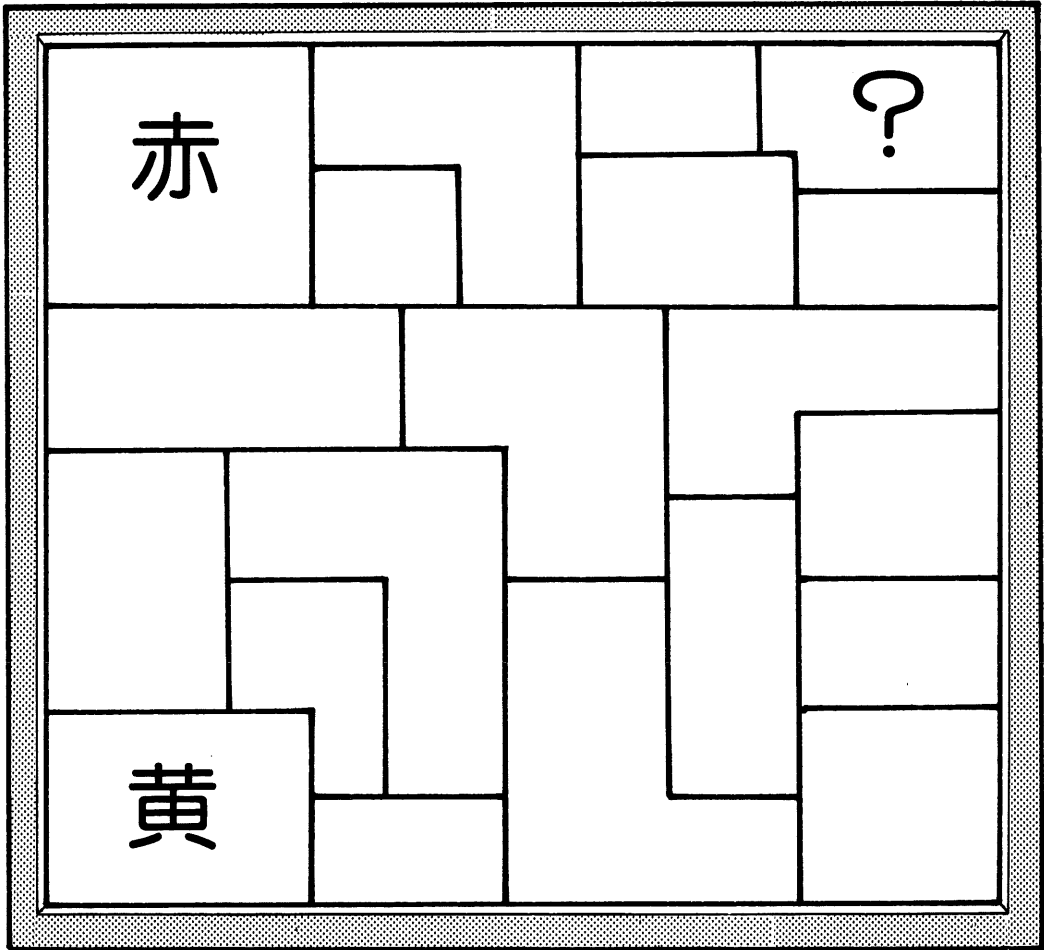
③

④



3色のペンキ

ペンキ屋さんが、今からこの看板を、赤と青と黄色の 3色のペンキで 塗り分けることになりました。左上は赤色、左下は黄色ときめて塗っていくと、右の上は何色を塗ればいいのでしょうか？ ただし、同じ色がとなりあわないようにしてね。






6つに分けよう^わ

下に 数字がたくさんかいてある 板があります。これを 形が同じで、中の数字の合計も 同じになるように 6つに分けたいのですが、1つの板に 同じ数字が ダブって入っては いけません。板は、裏返して同じ形になるものがあったてもOK!

3	5	1	3	7	4
9	2	7	2	5	1
6	1	4	6	0	3
5	3	5	8	2	7
2	4	0	3	4	8






けい さん

計算アミダ (1)

たし算と、ひき算の問題カードがあります。それをアミダでたどると、そろばん玉の形の中に答えが書いてあります。ただし、答えの中には3つ間違いがあります。そろばんで確かめて間違っているのはどれか、分かったら正しい答えに直しましょう。



$8 + 24$

$38 - 6$

$15 + 28$

$34 - 8$

$37 + 9$

$57 - 16$

$46 + 8$

$19 - 7$

$45 + 57$

$74 - 5$

②

15

④

32

⑥

26

⑧

43

⑩

64

①

54

③

41

⑤

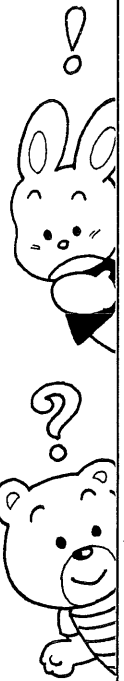
30

⑦

102

⑨

46





けい さん

計算アミダ (5)

かけ算と、わり算の問題カードがあります。それをアミダでたどると、そろばん玉の形の中に答えが書いてあります。ただし、答えの中には2つ間違いがあります。そろばんで確かめて間違っているのはどれか、分かったら正しい答えに直しましょう。



	472 × 96	123 × 31	328 × 83	
693 ÷ 21		624 ÷ 52		1,184 ÷ 74
	② 36	④ 33	⑥ 96	
① 12		③ 3,813		⑤ 45,312
				⑦ 27,334

だまアミダ!

ままたが、ままたが、2つ間違いがある。



けい さん

計算アミダ (6)

かけ算と、わり算の問題カードがあります。それをアミダでたどると、そろばん玉の形の中に答えが書いてあります。ただし、答えの中には2つ間違いがあります。そろばんで確かめて間違っているのはどれか、分かったら正しい答えに直しましょう。



	218×509	$2,703 \times 69$	$3,007 \times 61$		
405×307	$11,223 \div 261$	$7,293 \div 13$	$9,027 \div 153$		
① 186,507	② 183,427	③ 43	④ 110,982	⑤ 124,335	
			⑥ 69	⑦ 561	



けい さん

計算アミダ (7)

かけ算と、わり算の問題カードがあります。それをアミダでたどると、そろばん玉の形の中に答えが書いてあります。ただし、答えの中には2つ間違いがあります。そろばんで確かめて間違っているのはどれか、分かったら正しい答えに直しましょう。



$$3,560 \times 674$$

$$25,031 \times 46$$




$$40,012 \times 25$$

$$133,190 \div 19$$

$$82,328 \div 41$$

$$50,100 \div 2,004$$

$$86,099 \div 179$$



② 2,399,440

④ 2,008

⑥ 1,000,300

① 25

③ 483

⑤ 1,152,426

⑦ 7,010



けい さん
計算アミダ (8)

かけ算と、わり算の問題カードがあります。それをアミダでたどると、そろばん玉の形の中に答えが書いてあります。ただし、答えの中には2つ間違いがあります。そろばんで確かめて間違っているのはどれか、分かったら正しい答えに直しましょう。

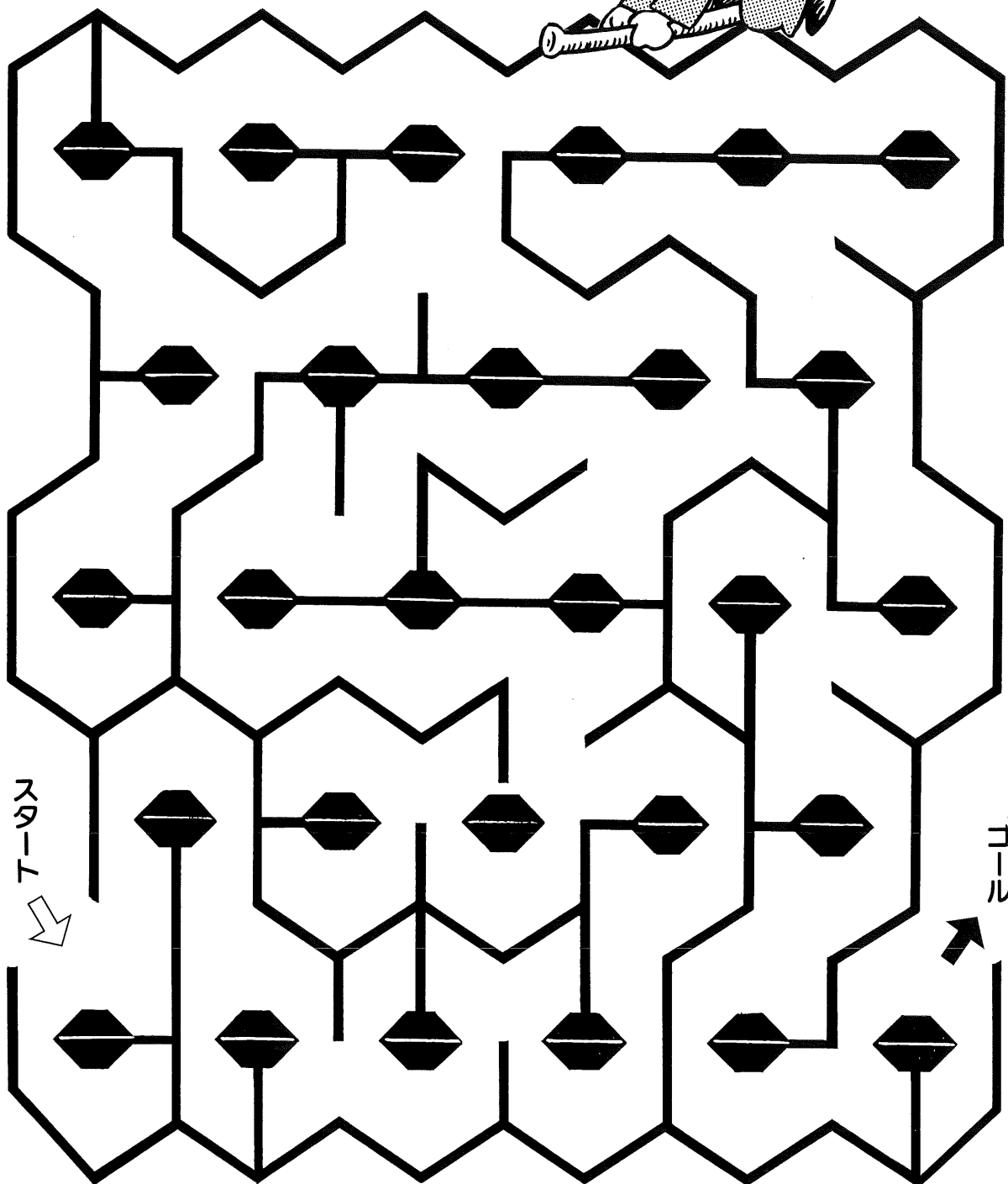


	6,270 × 580	7,992 × 151	17,829 × 18	
230,412 ÷ 844	150,498 ÷ 162	53,500 ÷ 428	408,804 ÷ 652	
<p>アミダ 見たえを 見つけよう</p> <p>1・2・3</p>				<p>まちがいが 2つ あるよ</p> <p>むず いず か</p>
① 3,636,800	② 320,922	④ 273	⑥ 125	⑦ 630
	③ 929	⑤ 1,206,792		



めい ろ
迷路にチャレンジ! (1)

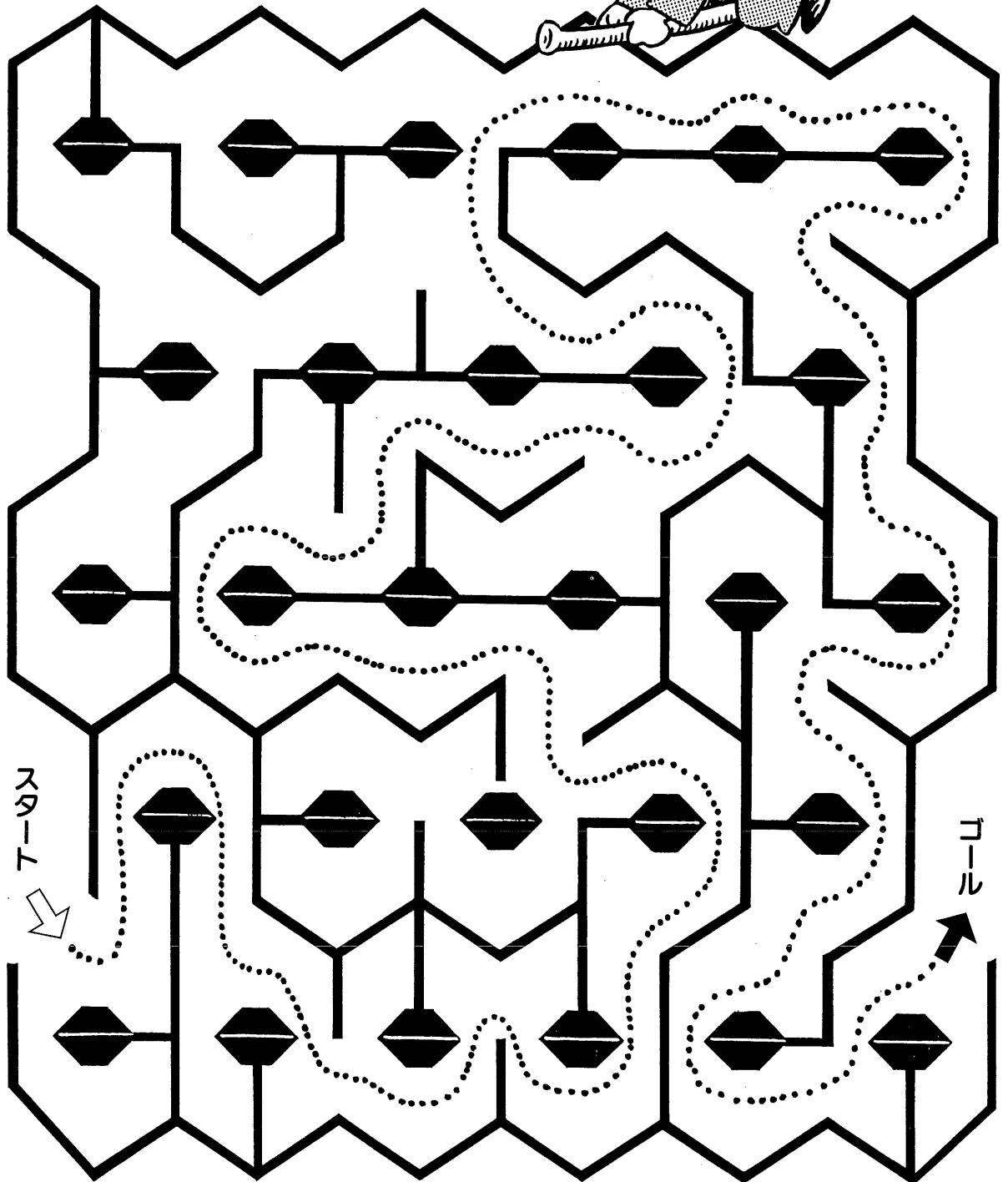
⇒ から入って → まで進みましょう。
行き止まりになったら、もどって正しい道
を見つけてゴールまで進みましょう。途中
であきらめないでね!





迷路にチャレンジ! (1)

答え





スタート
↓

ゴール
↑




めい ろ
迷路にチャレンジ! (2)

⇒ から入って → まで進みましょう。行き止まりになったら、もどって正しい道を見つけてゴールまで進みましょう。途中で、あきらめないでね!



スタート





ゴール




迷路にチャレンジ! (2)

答え



スタート




ゴール



めい ろ

迷路にチャレンジ! (3)



スタート



⇒から入って →まで進みましょう。行き止まりになったら、もどって正しい道を見つけてゴールまで進みましょう。途中で、あきらめないでね!



ゴール






迷路にチャレンジ! (3)


答え



スタート
↓

ゴール
←






めい ろ
迷路にチャレンジ! (4)

⇨ から入って ➡ まで進みましょう。行き止まりになったら、もどって正しい道を見つけてゴールまで進みましょう。途中で、あきらめないでね!

スタート
↓



ゴール
←




迷路にチャレンジ! (4)

答え



スタート


ゴール






めい ろ
迷路にチャレンジ! (5)

⇨から入って→まで進みましょう。行き止まりになったら、もどって正しい道を見つけてゴールまで進みましょう。途中で、あきらめないでね!



スタート




ゴール




迷路にチャレンジ! (5)

答え



スタート

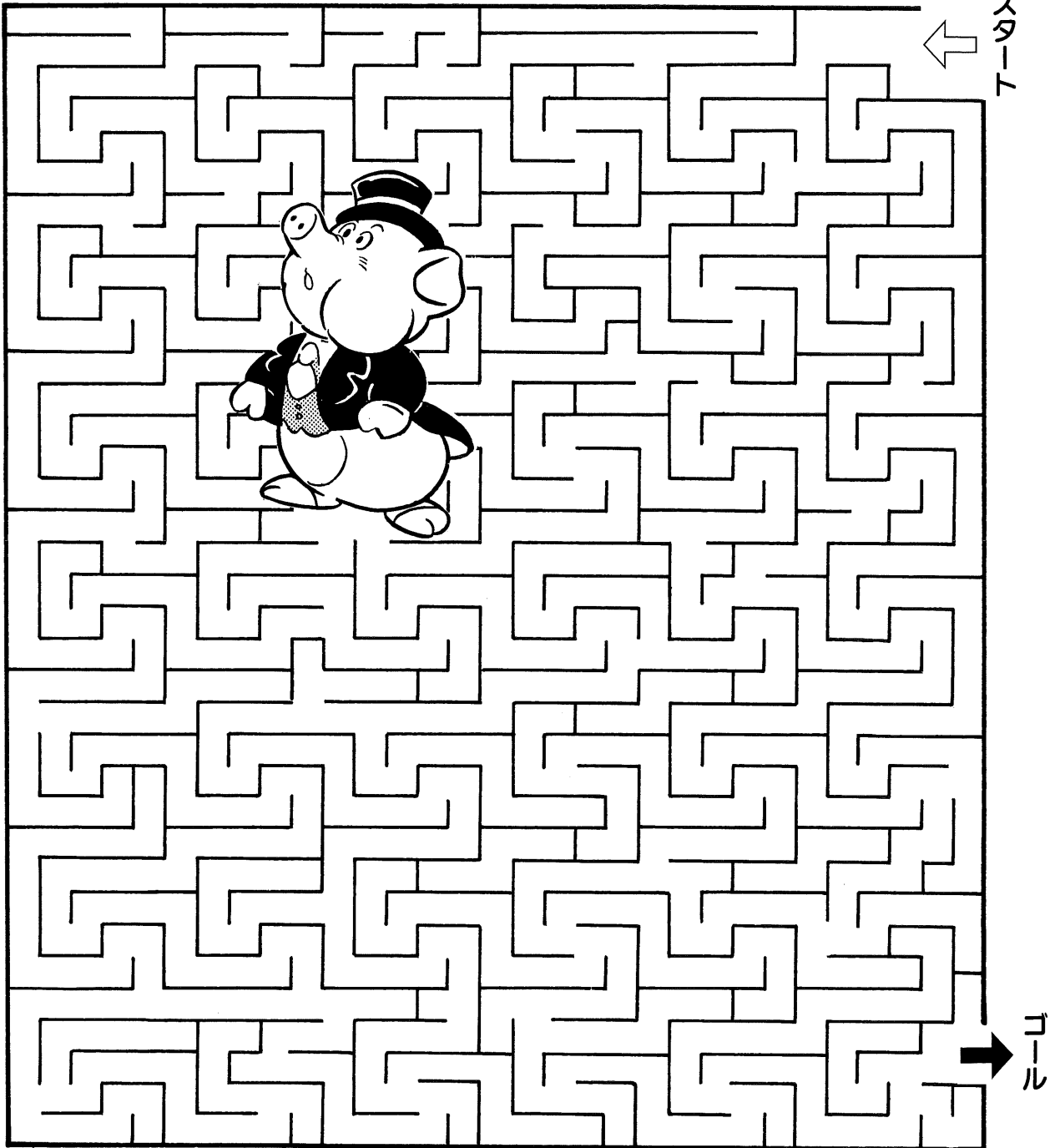


ゴール



めい ろ
迷路にチャレンジ! (6)

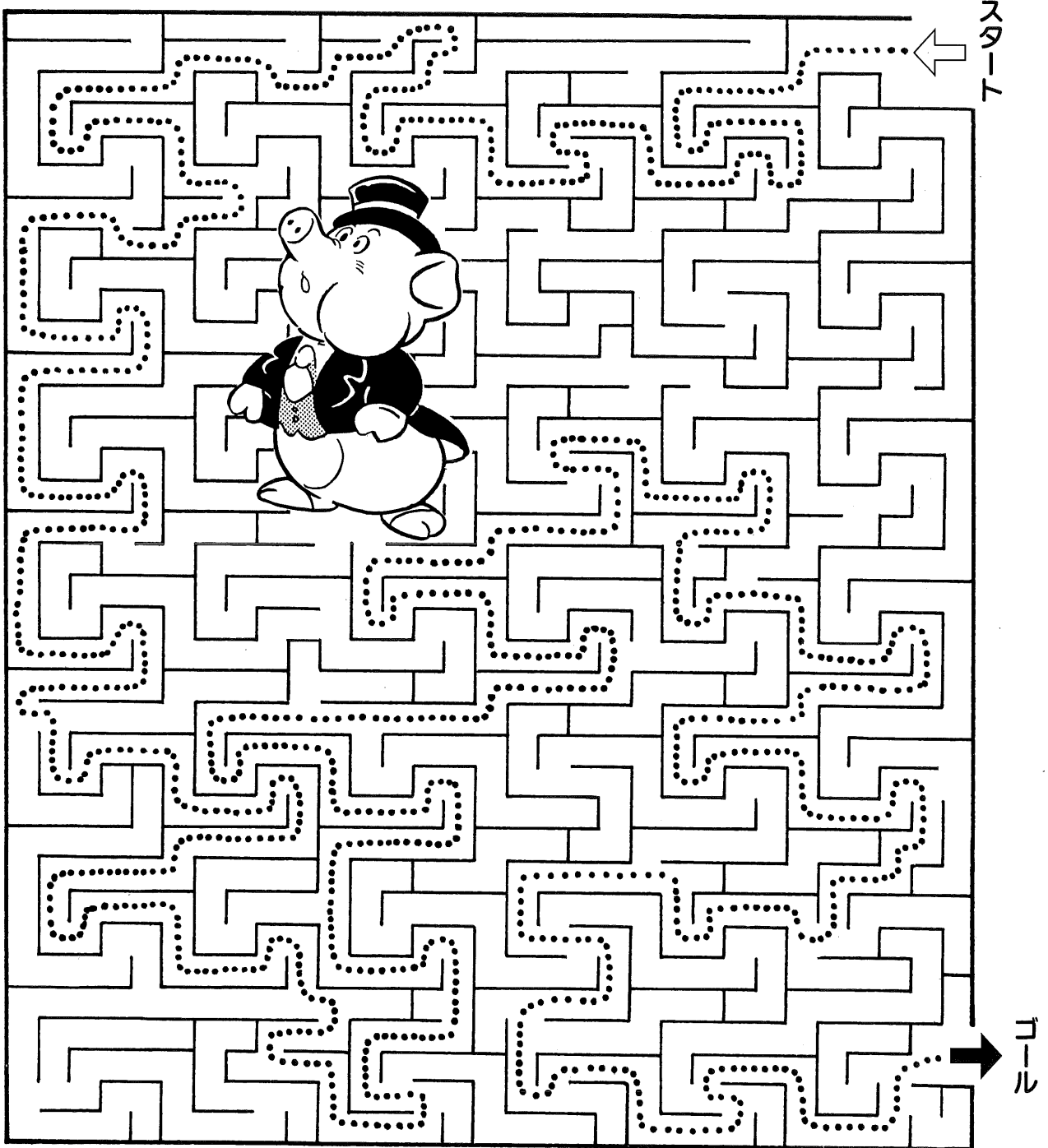
⇨から入って⇨まで進みましょう。行き止まりになったら、もどって正しい道を見つけてゴールまで進みましょう。途中で、あきらめないでね!





めい ろ
迷路にチャレンジ! (6)

答え





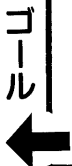


めい ろ

迷路にチャレンジ! (7)

⇒から入って →まで進みましょう。

行き止まりになかったら、もどって正しい道を見つけてゴールまで進みましょう。



途中で、あきらめないでね!





めい ろ
迷路にチャレンジ! (7)

答え




ゴール
←

スタート
→




めい ろ
迷路にチャレンジ! (8)

⇨から入って➡まで進みましょう。行き止まりになったら、もどって正しい道を見つけてゴールまで進みましょう。途中で、あきらめないでね!



スタート



ゴール




めい ろ
迷路にチャレンジ! (8)

答え



スタート




ゴール



どこに いるのかな? (1)

下の絵の中から、右の6つを
さがそう。さあ、見つかるかな?




- ①やきいもを 食べているのは だれかな?
- ②ころがったら 雪だるまになっちゃうよ!
- ③しゃしんを とっているのは だれだ。
- ④お金 が おちてるよ。
- ⑤スキー場に そろばんを もってきちゃった。
- ⑥水玉もよ用の ぼうしが かわいいね。





どこに いるのかな？ (2)

下の絵の中から、右の6つをさがそう。さあ、見つかるかな？




- ① アイスクリームを たべているのは だ〜れだ。
- ② 大仏さまに らくがきしては だめだよ！
- ③ そろばんを もってきたのは だれでしょう。
- ④ おにぎり たべている女の子。
- ⑤ ぼうしが とんじゃったよ。
- ⑥ みつばちが とんでるよ。






どこに いるのかな？ (3)

下の絵の中から、右の6つを
さがそう。さあ、見つかるかな？



- ①ボクシングで 足にけがをしちゃった。
- ②そろばんを もってきたんだね。
- ③ケーキをたべているよ おいしそう！
- ④どろぼうが にげこんだようです。
- ⑤サングラスが かっこいいね。
- ⑥バナナの皮で すべっちゃった！






どこにいるのかな？ (5)

下の絵の中から、右の6つをさがそう。さあ、見つかるかな？




- ①スベリ台は たのしいね。
- ②ぼくは おでんが だいすきさ。
- ③しゃしん上手に とってね。
- ④ありさん みつけたよ。
- ⑤森の絵かきさん。
- ⑥水玉のリボンが すてきだね。





どこに いるのかな？ (6)

下の絵の中から、右の6つをさがそう。さあ、見つかるかな？




- ①運動会でねてちゃ だめだよ。
- ②パン食いきょうそうだよ！
- ③バナナをもって 走っているよ。
- ④カメラマン がんばってね！
- ⑤そろばん持って はしっているね。
- ⑥おでん おいしそう。





どこに いるのかな？ (8)

下の絵の中から、右の6つをさがそう。さあ、見つかるかな？




- ①金魚すくい たのしいね。
- ②そろばんを持って およいでいるよ。
- ③たいこ たたいているお兄さん。かっこいい。
- ④ヘッドホンで 何を聞いているの？
- ⑤水玉のヨーヨー たのしいね。
- ⑥しんぶん読んでる お父さん。





どこに いるのかな？ (9)

下の絵の中から、右の6つを
さがそう。さあ、見つかるかな？




- ①へびが いるよ！
- ②「いたいっ！」カニに はさまれた。
- ③おにぎり おいしいよ。
- ④つりをしながら ねていたら あぶないよ！
- ⑤金魚すくい がんばってね。
- ⑥カエルくん およぎが上手。






どこに いるのかな？ (10)

下の絵の中から、右の6つを
さがそう。さあ、見つかるかな？




- ①あぶない！ がけから おちちゃうよ。
- ②デザートのリンゴが ころころころ。
- ③そろばん もってる おじさん。
- ④ハングライダー のりたいなあ。
- ⑤ハチが出た～ みんな 逃げろ～!!
- ⑥恐竜が でたよ～。





わかるかな？ (1)


①




②




③




④



⑤



⑥





わかるかな？ (2)

①



②



③




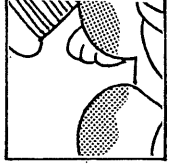
④



⑤



⑥





わかるかな？ (3)

①




②




③





④



⑤




⑥






わかるかな？ (4)

①



②



③



④



⑤




⑥






わかるかな？ (5)

①




②




③




④



⑤



⑥





かんじ え
漢字ぬり絵

「カ」と音読みする漢字をさがして、その漢字が書いてある かこみの中を ぬって
みましょう。なんの絵がでてくるでしょうか。





かん字あわせクイズ

つり糸をたどって、上と下の かん字をあわせて、かん字を 作りましょう。
 □に 作った かん字を、()に よみがなを 書いてね。

例

名 (な)

① □ ()

② □ ()

③ □ ()

④ □ ()

⑤ □ ()



かんじ
漢字ミニしりとり

下の□に 漢字を1字ずつ入れて、例のような しりとりを しましょう。
漢字は、左下から選びましょう。

例

出

航

海

航・出
海・航

①

地

置

⑤

財

業

②

四

節

⑥

住

家

③

記

音

⑦

発

戦

④

車


唱

⑧

目

本

標	輪
産	季
民	位
録	熱





ばらばら^{かんじ}漢字

漢字の ぶぶんが ばらばらに 組み立てられています。いったい、なんという字 だったのでしょうか。□に 正しい漢字を 書きましょう。

① ② ③





④ ⑤ ⑥

⑦ ⑧ ⑨



かんじぶん
漢字分かつパズル

漢字を 4つに分けて、それをバラバラにならべてあります。みんなが知っている漢字だよ。さあ、何という漢字か わかったら 下の□に 書きましょう。








ぬりえ

なまえ





ぬりえ

なまえ





ぬりえ


なまえ





ぬりえ

なまえ





ぬりえ

なまえ





ぬりえ

なまえ


そろばん はじめよっ!





ぬりえ

なまえ





ぬりえ

なまえ

そろばんって
♪ 楽しいネ





ぬりえ

なまえ

そろばんは
たのしいネ





ぬりえ

なまえ

やっぱり
そろばん






ぬりえ

なまえ

やっぱい

そろばんだ

ニヤニヤ





ぬりえ

なまえ





ぬりえ

なまえ





P-15 ☆組み合わせをあてよう (1)

◎ ㉔ と ㉚

P-16 ☆組み合わせをあてよう (2)

◎ ㉑ と ㉓

P-17 ☆おなじ組み合わせを見つけよう

2つ…カラス、トラ、宇宙人
かごの中のうさぎ、帽子
4つ…ペンギン

P-18 ☆わたしをさがして □ロボット

P-19 ☆絵文字クイズ

(1)…① スミレ ② チューリップ
③ パラ ④ レンゲソウ
(2)…① ハト ② キツツキ ③ ワシ ④ スズメ

P-20 ☆でんわを かけよう ㉔

P-21 ☆かくれんぼクイズ

鉛筆、ボール、スプーン、バット
傘、そろばん、はさみ
三角定規、コーヒークップ

☆なにが たりないかな

P-22 (1) ♠10 ♥Q ♣5 ♦3

P-23 (2) 三角定規、のり、鉛筆

P-24 (3)



P-25 (4)



P-26 ☆おばけを さがそう

㉔ 影がないので、女の子

P-27 ☆サッカーボールをさがせ!

このサッカーボールが、下のたくさんのボールの中に、入ってしまいました。もようの同じボールはどこにあるか、さがしてみよう。

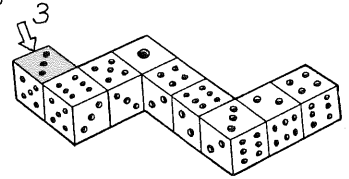


P-28 ☆何びき いるのかな? 7匹

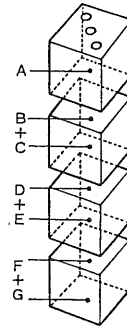
P-29 ☆サイコロクイズ (1) ㉔

P-30 ☆サイコロクイズ (2)

(A)◎ 3



(B)◎ 25 サイコロの目の数は、上と下を合計すると7になるから…



下の3つのサイコロの見えない面B~Gは

$$B+C=7$$

$$D+E=7$$

$$F+G=7 \dots$$

$$7 \times 3 = 21$$

そして上のサイコロの見えている目は3だから、見えない目の数は $7 - 3 = 4$

つまり見えない7つの面A~Gの合計は $21 + 4 = 25$

P-31 ☆町内野球チーム

- ① やおや (八百屋) ② とうふ屋
- ③ ふろ屋 ④ はな(花)屋 ⑤ にく(肉)屋
- ⑥ いしゃ(医者) ⑦ おまわりさん
- ⑧ おしば(歯医者) ⑨ 大工(大きい)9

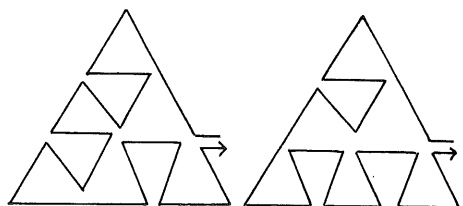
P-33 ☆しりとり・めいろ (1)

おしどり→りす→すずめ→めだか→
かぶとむし→しまうま→まんとうひひ→
ひょう→うみねこ→こあら→らくだ

P-34 ☆しりとり・めいろ (2)

パラ→ライラック→クチナシ→
シロツメクサ→サルスベリ→リンドウ→
ウツボグサ→サザンカ→カラタチ→
チューリップ

P-35 ☆バイクでGOGO





P-36 ☆記号でよもう

- ×…カ ■…ラ ●…ス ◆…メ
 ◎…ダ ▲…ク ★…ズ
 ①…カラス ②…メダカ ③…ラクダ
 ④…スズメ

P-37 ☆絵クロスワードパズル

(1)

カ	イ	ガ	ラ
マ	ス	■	イ
ポ	■	カ	オ
コ	ウ	モ	ン

(2)

タ	コ	ヤ	キ	■
イ	■	モ	ク	バ
コ	オ	リ	■	イ
■	ナ	■	ツ	キ
タ	ラ	イ	■	ン

(3)

カ	キ	ゴ	オ	リ
マ	ユ	■	エ	■
ド	ム	■	■	パ
■	ピ	イ	マ	ン
ソ	ノ	ス	■	ツ

(4)

ホ	ウ	セ	キ	■
■	デ	ン	セ	ン
ヤ	■	タル	■	■
マ	イ	ク	■	カ
■	ス	キ	ヤ	キ

P-41 ☆3文字クロスワード

A B C

カ	タ	キ
オ	バ	ケ
リ	コ	ン

ア	ク	ビ
シ	ラ	ガ
カ	ゲ	ン

サ	シ	ミ
イ	ン	カ
フ	キ	ン

P-42 ☆プラスでチャレンジ

◎ 12個

	5	2	1	1	2	1	3	
2	1	4	7	3	2	7	4	2
5	4	2	1	3	1	2	1	3
5	3	2	4	4	1	4	5	2
1	1	9	2	3	3	2	3	4
7	4	1	6	1	5	6	2	3
4	2	3	5	1	2	1	1	9
5	2	2	2	1	8	3	1	2
3	3	6	5	3	3	2	8	2
6	2	1	2	1	7	3	2	1
3	2	5	3	2	1	1	4	1
	5	4	2	8	3	5	7	

P-43 ☆公倍数 お絵かき



1	8	6	18	12	30	6	36	7	27	31	37
30	18	24	33	17	35	22	12	14	21	15	30
24	12	14	36	2	12	9	24	26	5	7	12
6	2	10	1	37	36	1	12	36	30	6	18
18	16	7	25	2	12	18	6	19	5	30	5
40	18	36	35	20	17	31	11	40	8	24	36
3	29	18	23	34	4	8	4	22	38	9	18
29	23	30	11	20	13	3	15	38	16	14	24
10	4	12	32	12	30	6	24	36	12	26	36
3	6	36	34	18	9	13	28	15	24	16	6
21	24	39	11	24	33	10	32	6	13	39	24
27	18	30	6	30	25	28	19	12	6	30	36

P-44 ☆計算クイズ

∞ とる

1	
5	4
9	7
12	18
23	21
50	50

P-45 ☆星座つなぎパズル

A

B

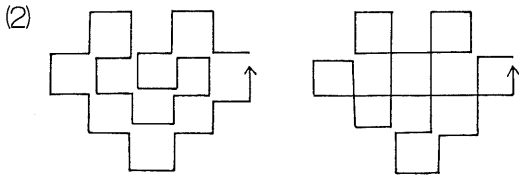
P-46 ☆一筆で書けるかな?

(1)

(他にも やりかたが あるか 考えてみてね)

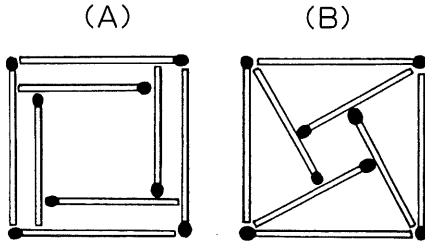


P-46 ☆一筆で書けるかな？



(他にも やりかたが あるか 考えてね)

P-47 ☆マッチぼうパズル



P-48 ☆数字のカード

$$4 \times 4 = 2 \times 8$$

$$6 + 8 = 2 \times 7$$

P-49 ☆ならべて見よう

(1)…あんざんで ほくは クラスの
にんきものだよ

(2)…よみ かき そろばんは
につぼんの でんとうです

P-55 ☆正方形はいくつ

◎ 26個


(小) 辺1 = 17 (中) 辺2 = 8

(大) 辺3 = 1 計…26


P-56 ☆九九お絵かき

1	31	22	41	14	13	90	17	21
35	44	8	33	18	60	45	66	81
81	77	36	11	56	44	3	83	12
12	26	72	70	49	61	10	34	49
64	80	21	55	43	57	54	82	20
51	25	40	28	9	2	16	4	11
73	7	15	63	20	42	18	28	57
23	36	31	27	14	30	34	18	46
85	48	4	15	59	63	40	45	60
13	6	56	12	49	35	12	81	39
45	89	72	49	10	64	36	92	15
3	20	47	13	85	23	73	27	2


P-57 ☆まちがいさがし (1)




P-58 ☆まちがさがし (2)



P-59 ☆まちがいさがし (3)




P-60 ☆まちがいさがし (4)





P-61 ☆まちがいさがし (5)




P-62 ☆まちがいさがし (6)



P-71 ☆1から49までレッツゴー!

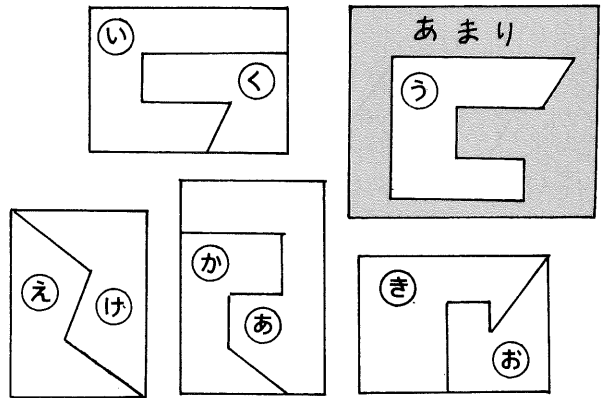
21	20	19	16	15	14	①
22	23	18	17	12	13	②
25	24	41	42	11	10	③
26	39	40	43	44	9	④
27	38	35	34	45	8	⑤
28	37	36	33	46	7	⑥
29	30	31	32	47	48	49



P-72 ☆記号をみつけよう (1) ×

P-73 ☆記号をみつけよう (2) ÷

P-74 ☆うまく組み合わせよう



P-63 ☆暗号お絵かき


- (1)イルカ (2)恐竜 (3)カンガルー
- (4)飛行機 (5)猫 (6)船

P-69 ☆たし算パズル

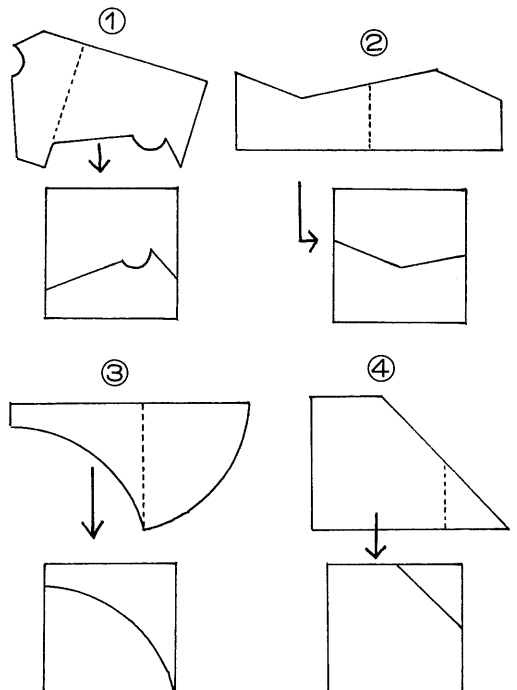
- Ⓐ鉛筆…7、消しゴム…9、珠…8
- Ⓑソウ…4、キリン…2、ライオン…5

P-70 ☆かくれた文字をあてよう

- (A)春夏秋冬のくりかえし
- (B)春夏冬は休みのある季節
春夏秋冬は四季で
春夏冬、春夏秋冬と休みのある季節
と四季のくりかえし
- (C)春夏・春秋・春冬のくりかえし

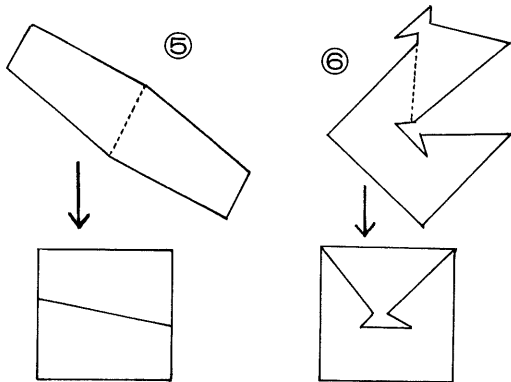


P-75 ☆正方形にしよう

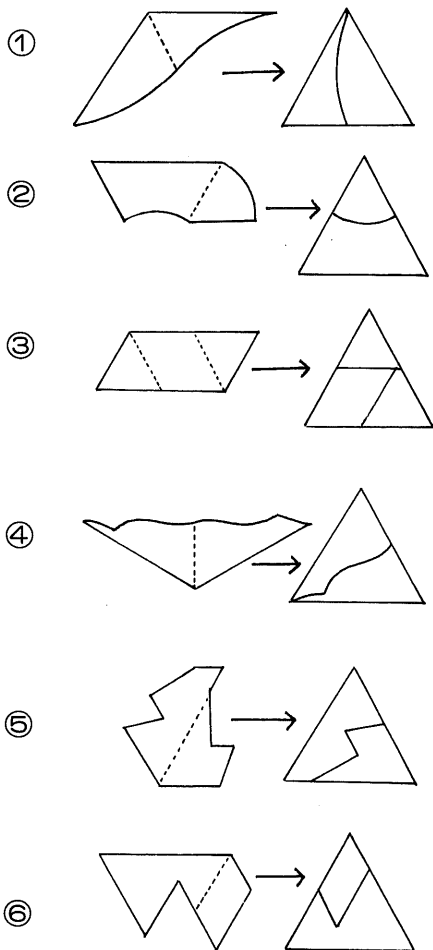




P-75 ☆正方形にしよう



P-76 ☆正三角形にしよう



P-77 ☆クロス計算

(1)

8	+	3	=	11
-	■	+	■	-
4	-	2	=	2
=	■	=	■	=
4	+	5	=	9

(2)

12	×	2	=	24
÷	■	×	■	÷
6	÷	3	=	2
=	■	=	■	=
2	×	6	=	12

(3)

4	+	^A 2	=	^B 6
+	■	+	■	1
^C 4	-	^A 2	=	^A 2
11	■	11	■	11
^B 8	-	^C 4	=	4

(4)

4	+	^A 4	=	^B 8
+	■	+	■	1
^C 6	-	^D 2	=	^A 4
11	■	11	■	11
^E 10	-	^C 6	=	4

(他の答えも 考えてみよう)

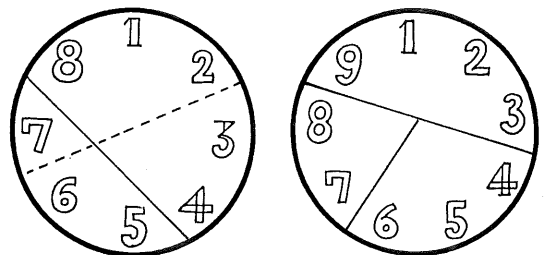
P-81 ☆箱の数をあてよう (1)

- ◎一番多いのは ①
①...24個 ②...23個 ③...20個

P-82 ☆箱の数をあてよう (2)

- ◎一番多いのは ②
①...20個 ②...21個 ③...19個

P-83 ☆円わりパズル



2とおりできます。線・点でそれぞれわけると18ずつになります。

P-84 ☆ことばのクロスワードパズル

①

ア			
ク	イ	ズ	
ス			

②

	イ		
カ	ル	タ	
	カ		

③

	バ		
ハ	ナ	ビ	
	ナ		

④

	エ		
ク	ウ	キ	
	キ		

⑤

	ト		
モ	ケ	イ	
	イ		

⑥

	リ		
さ	ん	ご	
	ご		

⑦

	だ		
い	る	か	
	ま		

⑧

	ら		
さ	く	ら	
	だ		

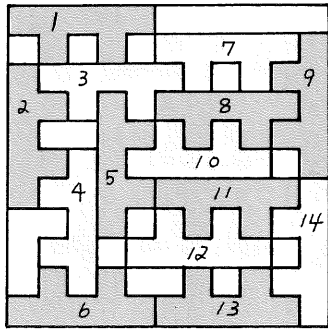


P-85 ☆トランプカード数あわせ

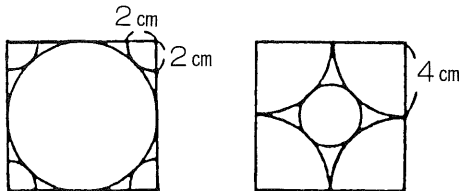
上段にある3枚を、そっくり最下段に移動させる。

P-86 ☆ゲタさがしゲーム

◎ 14個



P-87 ☆図形あそび



P-88 ☆かくれた すうじ さがし

4の場合

1	1	2
1	3	0
2	0	2

2	1	1
2	1	1
0	2	2

5の場合

3	0	2
1	3	1
1	2	2

1	4	0
2	1	2
2	0	3

6の場合

1	3	2
0	2	4
5	1	0

1	4	1
2	2	2
3	0	3

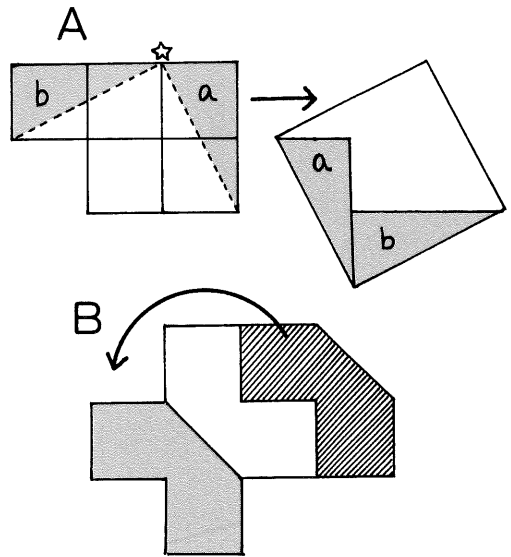
8の場合

2	5	1
2	0	6
4	3	1

4	3	1
1	5	2
3	0	5

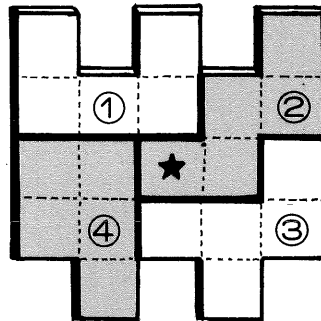
(他の答えも考えてみよう)

P-89 ☆つなぎ合わせクイズ



P-90 ☆タイルのパズル

◎ ②



P-91 ☆旗の面積あてクイズ


◎ A

P-92 ☆パネルの面積は?

◎ ①

P-93 ☆3色のペンキ

◎ 青





P-94 ☆6つに分けよう

3	5	1	3	7	4
9	2	7	2	5	1
6	1	4	6	0	3
5	3	5	8	2	7
2	4	0	3	4	8

(1つの板の合計は20です)

P-95 ☆計算アミダ (1)

- ②...12 ⑤...32 ⑩...69

P-96 ☆計算アミダ (2)

- ③...306 ⑥...336 ⑩...392

P-97 ☆計算アミダ (3)

- ①...1,404 ③...884 ⑥...18

P-98 ☆計算アミダ (4)

- ①...1,541 ④...1,403 ⑨...428

P-99 ☆計算アミダ (5)

- ②...16 ⑦...27,224

P-100 ☆計算アミダ (6)

- ④...110,962 ⑥...59

P-101 ☆計算アミダ (7)

- ③...481 ⑤...1,151,426

P-102 ☆計算アミダ (8)

- ①...3,636,600 ⑦...627

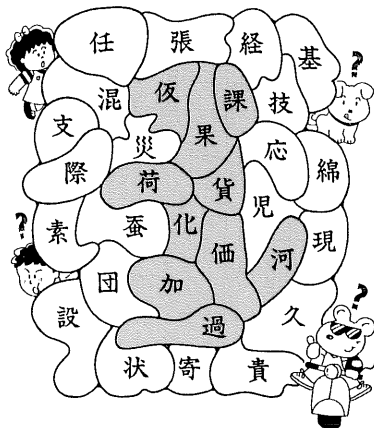
P-134 ☆かんじぎりクイズ

- ① 苗、甘、車、華、画
- ② 栗、共、東、昔、菓
- ③ 豆、票、合、美、雨
- ④ 青、文、王、金、凹

P-135 ☆漢字ぬり絵

◎ いぬ

「力」と音読みする漢字
 仮、課、果、荷、貨、化
 価、加、過、河



P-136 ☆かん字あわせクイズ

- ①男 ②林 ③早 ④音 ⑤校

P-137 ☆漢字ミニしりとり

- ①位 ②季 ③録 ④輪 ⑤産
- ⑥民 ⑦熱 ⑧標

P-138 ☆ばらばら漢字

- ①時 ②茶 ③麦 ④算 ⑤場
- ⑥帰 ⑦新 ⑧野 ⑨船

P-139 ☆うき出し文字クイズ

- ◎ うき出した文字は 五
- ◎ まちがった漢字は 報、武、刊、織、厚、犯、文、眼、益、液、潔、価、徳、率、非、構、術、営、再、限 の 20

P-140 ☆漢字分かたパズル

- ◎ 1...珠 2...級 3...数 4...学

